

## Constable (GD) in CAPFs, NIA, SSF and Rifleman (GD) in Assam Rifles Examination, 2018

Roll No. :	www.examstocks.com
Registration No.	www.examstocks.com
Name :	www.examstocks.com
Exam Venue :	iON digital Zone iDZ1 Khajasarai
Exam Time :	12:30 PM - 2:00 PM
Exam Date :	22/02/2019

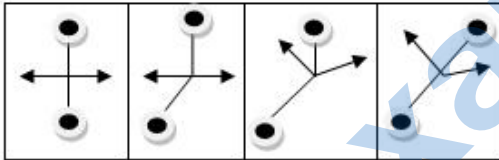
Section : General Section

Q.1 यदि PROFIT को 17-19-16-7-10-21 के रूप में कूटबद्ध किया गया है, तो COMPANY को कैसे कूटबद्ध किया जाएगा?

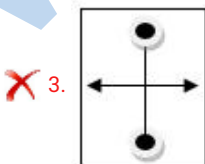
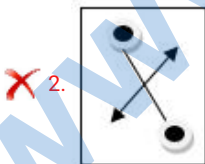
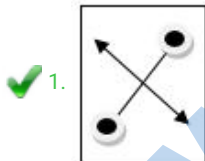
- Ans
- 1. 3-16-14-17-2-15-25
  - 2. 4-15-13-17-2-15-26
  - 3. 4-16-14-17-2-15-26
  - 4. 3-15-13-16-1-14-25

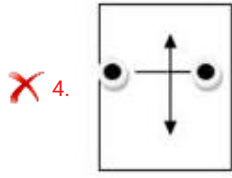
Question ID : 9895806487  
Chosen Option : 3

Q.2 निम्नलिखित श्रृंखला में आगे आने वाली आकृति का चयन करें।



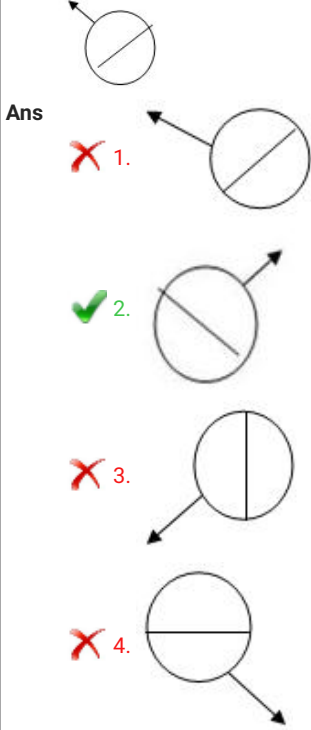
Ans





Question ID : 9895806500  
Chosen Option : 1

Q.3 उस विकल्प का चयन करें जो दिए गए संयोजन की दर्पण छवि से सर्वाधिक निकट प्रतीत होता है।



Question ID : 9895806503  
Chosen Option : 2

Q.4 दिए गए समीकरण को सही बनाने के लिए किन दो चिन्हों को आपस में बदलना होगा?

$$0 \div 15 + 15 - 10 \times 10 = -99$$

- Ans
- ✓ 1. + और ÷
- ✗ 2. + और ×
- ✗ 3. ÷ और -
- ✗ 4. ÷ और ×

Question ID : 9895806498  
Chosen Option : 1

Q.5 निम्नलिखित में से असंगत युग्म को पहचानें।

- Ans ✗ 1. ताज महल : आगरा

2. इंडिया गेट : नई दिल्ली
3. विक्टोरिया स्मारक : कोलकाता
4. कोणार्क : ओडिशा

Question ID : 9895806484

Chosen Option : 3

Q.6 सरथ, नवीन, दीपक और विक्रम एक गोल मेज के चारों ओर बैठे हैं और अपने व्यापार पर चर्चा कर रहे हैं। सरथ इंजीनियर के सामने बैठा है। नवीन डॉक्टर के दाईं ओर बैठा है। वकील पुलिस के बाईं ओर है। विक्रम दीपक के सामने बैठा है।

इंजीनियर कौन है?

- Ans  1. सरथ
2. दीपक
3. विक्रम
4. नवीन

Question ID : 9895806490

Chosen Option : 4

Q.7 उस विकल्प का चयन करें जो तीसरे पद से उसी तरह से संबंधित है जिस प्रकार दूसरा पद पहले पद से संबंधित है।

$$\frac{10}{13} : 269 :: \frac{12}{16} : \underline{\hspace{2cm}}$$

- Ans  1. 350
2. 400
3. 326
4. 256

Question ID : 9895806496

Chosen Option : 2

Q.8 यदि OFFICE को PHIMHK के रूप में कूटबद्ध किया जाता है, तो COLLEGE को \_\_\_\_\_ के रूप में कूटबद्ध किया जाएगा।

- Ans  1. DQOPJML
2. DQPPJML
3. DQOOJML
4. DQOPJNL

Question ID : 9895806488

Chosen Option : 3

Q.9

एक दवा कंपनी ने आठ नई दवाएं - A, B, C, D, E, F, G और H लॉन्च कीं। दवाइयों को 2015 में 3 महीने की अवधि में एक के बाद एक लॉन्च किया गया था। लॉन्च करने का क्रम निम्नलिखित शर्तों पर आधारित था:

- A, H के तुरंत बाद लॉन्च हुआ;
- E, G और A दोनों से पहले लॉन्च हुआ;
- C, E के तुरंत बाद लॉन्च हुआ;
- D, E से पहले लेकिन B के बाद लॉन्च हुआ; तथा
- B, F से तुरंत पहले लॉन्च हुआ।

निम्नलिखित में से कौन सा कथन सत्य हो सकता है?

Ans

- 1. G लॉन्च की जाने वाली दूसरी दवा थी।
- 2. B लॉन्च की जाने वाली तीसरी दवा थी।
- 3. A लॉन्च की जाने वाली चौथी दवा थी।
- 4. C लॉन्च की जाने वाली पाँचवी दवा थी।

Question ID : 9895806491

Chosen Option : 4

Q.1 0 उस विकल्प का चयन करें जो तीसरे पद से उसी तरह से संबंधित है जिस प्रकार दूसरा पद पहले पद से संबंधित है।

प्रचुर : दुर्लभ :: आगमन : ?

Ans

- 1. आना
- 2. रुकना
- 3. प्रस्थान
- 4. पहुँचना

Question ID : 9895806485

Chosen Option : 3

Q.1 1 उस पद का चयन करें जो निम्नलिखित श्रृंखला में अगला आएगा।

aCCe, fHHj, kMMo, \_\_\_\_\_

Ans

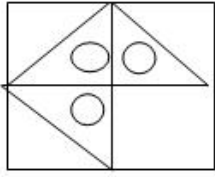
- 1. qSSt
- 2. qRRt
- 3. pQQR
- 4. pRRt

Question ID : 9895806481

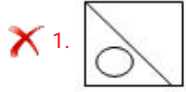
Chosen Option : 4

Q.1  
2

निम्नलिखित पैटर्न को पूरा करने के लिए सही विकल्प का चयन करें।



Ans



Question ID : 9895806502

Chosen Option : 2

Q.1  
3 निम्नलिखित में से असंगत को पहचानें।

Ans

✗ 1. तकिया

✗ 2. रजाई

✗ 3. बिस्तर

✓ 4. भेड़

Question ID : 9895806482

Chosen Option : 4

Q.1  
4 नीचे दिए गए कथनों के बाद दो निष्कर्ष I और II दिए गए हैं। आपको कथनों में दी गई जानकारी को सत्य मानना है, भले ही वे सर्व ज्ञात तथ्यों से भिन्न प्रतीत होती हो, और यह तय करना है कि कौन सा/से निष्कर्ष तार्किक रूप से और निश्चित रूप से कथनों का अनुसरण करता है/ करते हैं।

कथन :

कुछ बंदर गधे हैं।

सभी गधे शेर हैं।

निष्कर्ष:

I. सभी शेर गधे हैं।

II. सभी गधे बंदर हैं।

Ans

✗ 1. केवल निष्कर्ष I अनुसरण करता है।

✗ 2. केवल निष्कर्ष II अनुसरण करता है।

✗ 3. निष्कर्ष I और II दोनों अनुसरण करते हैं।

✓ 4. न तो निष्कर्ष I और न ही निष्कर्ष II अनुसरण करता है।

Question ID : 9895806493

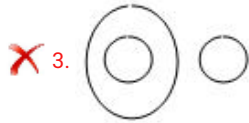

Chosen Option : 4

Q.1 वेन आरेख का चयन करें जो दिए गए तीन वर्गों के बीच के संबंध को सर्वोत्तम रूप में दर्शाता है।

5

भाषाएँ, हिन्दी, मलयालम

Ans



Question ID : 9895806505

Chosen Option : 2

Q.1 'घोडा' उसी तरह से संबंधित है 'बछड़े' से, जिस प्रकार 'आदमी' संबंधित है ' \_\_\_\_\_ ' से ।

6

Ans

✗ 1. परिवार

✓ 2. बच्चा

✗ 3. विद्यार्थी

✗ 4. महिला

Question ID : 9895806486

Chosen Option : 3

Q.1 निम्नलिखित संख्या श्रृंखला में, दो संख्याओं को कोष्ठक में रखा गया है। श्रृंखला का ध्यानपूर्वक अध्ययन करें और श्रृंखला के संबंध में सही विकल्प का चयन करें।

7

2, 5, 10, 17, (26), 37, 50, 65, (81), 101

Ans

✗ 1. दोनों कोष्ठक वाली संख्याएँ गलत हैं।

✓ 2.

(बाएं से) पहली कोष्ठक वाली संख्या सही है और दूसरी गलत है।

✗ 3.

(बाएं से) पहली कोष्ठक वाली संख्या गलत है और दूसरी सही है।

✗ 4. दोनों कोष्ठक वाली संख्याएँ सही हैं।

Question ID : 9895806499

Chosen Option : 2

Q.1  
8 निम्नलिखित में से असंगत को पहचानें।

- Ans
- 1. U
  - 2. E
  - 3. I
  - 4. Z

Question ID : 9895806483

Chosen Option : 4

Q.1  
9 निम्नलिखित में से असंगत की पहचान करें।

- Ans
- 1. 167
  - 2. 256
  - 3. 225
  - 4. 196

Question ID : 9895806497

Chosen Option : 1

Q.2  
0 निम्नलिखित श्रृंखला में अगली आने वाली दशमलव संख्या को पहचानें।

20, 19.9, 19.89, 19.889, 19.8889, \_\_\_\_\_

- Ans
- 1. 19.88888
  - 2. 19.88889
  - 3. 19.98889
  - 4. 19.88999

Question ID : 9895806494

Chosen Option : 2

Q.2  
1 उस संख्या को पहचानें जो निम्न श्रृंखला से संबंधित नहीं है।

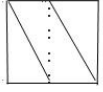
0, 7, 26, 2, 9, 27, 4, 11, 30

- Ans
- 1. 27
  - 2. 7
  - 3. 9
  - 4. 26

Question ID : 9895806495

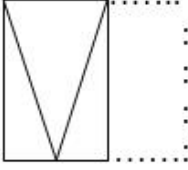
Chosen Option : 2

Q.2 एक पैटर्न के साथ एक चौकोर पारदर्शी शीट दी गई है। चार विकल्पों में उस विकल्प का चयन करें जो जब पारदर्शी शीट को बिन्दुदार रेखा पर मोड़े जाने पर दिखाई देने वाले पैटर्न को दर्शाता है।

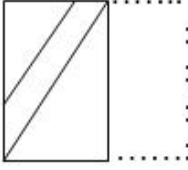


Ans

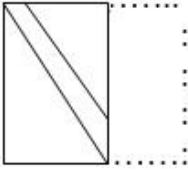
✗ 1.



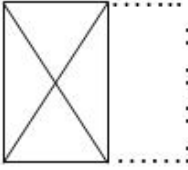
✗ 2.



✗ 3.



✓ 4.



Question ID : 9895806504  
Chosen Option : 4

Q.2 दिए गए कथनों और निष्कर्षों को ध्यानपूर्वक पढ़ें और तय करें कि कौन सा/से निष्कर्ष तार्किक रूप से कथनों का अनुसरण करता है/ करते हैं।

कथन:

सभी लड़कियां छात्राएं हैं।

सभी छात्राएं बहनें हैं।

निष्कर्ष:

I. सभी लड़कियां बहनें हैं।

II. कुछ लड़कियां बहनें नहीं हैं।

Ans

✓ 1. केवल निष्कर्ष I अनुसरण करता है।

✗ 2. न तो निष्कर्ष I और न ही निष्कर्ष II अनुसरण करता है।

✗ 3. निष्कर्ष I और II दोनों अनुसरण करते हैं।

✗ 4. केवल निष्कर्ष II अनुसरण करता है।

Question ID : 9895806492  
Chosen Option : 1

Q.2

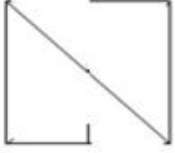


4 पाँच मित्र एक पंक्ति में बैठे हैं। सत्या, प्रभा के बगल में बैठी है लेकिन दिव्या के बगल में नहीं। कीर्ति, रोजा के बगल में बैठी है जो बाएँ छोर पर बैठी है। दिव्या, कीर्ति के बगल में नहीं बैठी है। बीच में कौन बैठा है?

- Ans
- 1. दिव्या
  - 2. प्रभा
  - 3. सत्या
  - 4. कीर्ति

Question ID : 9895806489  
Chosen Option : 3

Q.2  
5 उस विकल्प का चयन करें जिसमें दी गई आकृति अंतर्निहित है।



Ans

- 1.
- 2.
- 3.
- 4.

Question ID : 9895806501  
Chosen Option : 3

Q.2  
6 ऐतिहासिक फव्वारा 'गुलज़ार हौज़' निम्नलिखित में से किस भारतीय शहर में स्थित है?

- Ans
- 1. दिल्ली
  - 2. अजमेर
  - 3. हैदराबाद
  - 4. लखनऊ

Question ID : 9895806533

Chosen Option : 2

Q.2  
7 निम्नलिखित में से पल्लव राजवंश की राजधानी कौन सी थी?

- Ans
- 1. तंजावुर
  - 2. विशाखापट्टनम
  - 3. कांचीपुरम
  - 4. मदुरै

Question ID : 9895806554  
Chosen Option : 3

Q.2  
8 किसी एक व्यक्ति को भारतीय सर्वोच्च न्यायालय के न्यायाधीश के रूप में नियुक्त होने के लिए उच्च न्यायालय में कितने वर्षों तक अभ्यास करना अनिवार्य है?

- Ans
- 1. 5
  - 2. 10
  - 3. 12
  - 4. 15

Question ID : 9895806544  
Chosen Option : 2

Q.2  
9 धुपगढ़ चोटी भारत के किस राज्य में स्थित है?

- Ans
- 1. राजस्थान
  - 2. मध्य प्रदेश
  - 3. उत्तर प्रदेश
  - 4. गुजरात

Question ID : 9895806551  
Chosen Option : 2

Q.3  
0 'लोसोंग' निम्नलिखित में से किस भारतीय राज्य का त्योहार है?

- Ans
- 1. मेघालय
  - 2. गोवा
  - 3. सिक्किम
  - 4. अरुणाचल प्रदेश

Question ID : 9895806532  
Chosen Option : 3

Q.3  
1 हरित क्रांति निम्नलिखित में से किस राष्ट्र में पहले शुरू की गई थी?

- Ans
- 1. अर्जेंटीना
  - 2. मेक्सिको
  - 3. चिली
  - 4. ब्राज़िल

Question ID : 9895806552  
Chosen Option : 4

Q.3 किसी भी परिसंकटमय नियोजन में काम करने के लिए 14 वर्ष से कम उम्र के बच्चों का निषेध भारतीय संविधान के 2 किस अनुच्छेद में वर्णित है?

- Ans
- 1. 22
  - 2. 25
  - 3. 24
  - 4. 23

Question ID : 9895806542  
Chosen Option : 3

Q.3 3 'ग्रेट मैन मेड रिवर' किस देश में स्थित है?

- Ans
- 1. लीबिया
  - 2. केन्या
  - 3. मिस्र
  - 4. इथियोपिया

Question ID : 9895806550  
Chosen Option : 3

Q.3 4 ऋग्वेद को कितने 'मंडलों' या पुस्तकों में विभाजित किया गया है?

- Ans
- 1. 10
  - 2. 12
  - 3. 5
  - 4. 7

Question ID : 9895806553  
Chosen Option : 1

Q.3 5 टमाटर में कौन सा अम्ल (एसिड) मौजूद होता है?

- Ans
- 1. टार्टरिक एसिड
  - 2. सल्फेनिक एसिड
  - 3. मेलिक एसिड

✓ 4. ओक्सीलिक एसिड

Question ID : 9895806546

Chosen Option : 4

Q.3  
6 वह उद्योगपति की पहचान करें जो वेदांत रिसोर्सिज़ नामक प्राकृतिक संसाधन कंपनी के संस्थापक हैं।

- Ans
- ✗ 1. शंकर उदय
  - ✗ 2. कुलदीप अगरवाल
  - ✓ 3. अनील अगरवाल
  - ✗ 4. विशाल सिक्का

Question ID : 9895806538

Chosen Option : 3

Q.3  
7 निम्नलिखित में से विश्व के किस नेता को प्रथम फिलिप कोटलर प्रेसिडेंसियल सम्मान से सम्मानित किया गया है?

- Ans
- ✗ 1. एन्जेला मर्केल
  - ✗ 2. डोनाल्ड ट्रम्प
  - ✗ 3. थेरेसा मे
  - ✓ 4. नरेंद्र मोदी

Question ID : 9895806536

Chosen Option : 4

Q.3  
8 निम्नलिखित में से कौन सा जानवर स्तनपायी है?

- Ans
- ✗ 1. बुल्फ्राग
  - ✗ 2. कछुआ
  - ✗ 3. ऐनलिड
  - ✓ 4. व्हेल

Question ID : 9895806547

Chosen Option : 4

Q.3  
9 बैंकिंग शब्दावली में, SLR शब्द का अर्थ है:

- Ans
- ✓ 1. स्टेच्युटरी लिक्विडिटी रेशिओ
  - ✗ 2. सबसीडरी लेवरेजिंग रेशिओ
  - ✗ 3. स्टैंडर्ड लिक्विडिटी रेशिओ
  - ✗ 4. सबोर्डिनेट लेवल रिटर्न

Question ID : 9895806540

Chosen Option : 1

Q.4  
0 भारतीय संसद द्वारा भगोड़ा आर्थिक अपराधी अधिनियम कब पारित किया गया?

- Ans
- 1. 2014
  - 2. 2016
  - 3. 2012
  - 4. 2018

Question ID : 9895806543

Chosen Option : 4

Q.4  
1 'मोडसे' निम्नलिखित में से किस भारतीय राज्य का पारंपरिक नृत्य है?

- Ans
- 1. नागालैंड
  - 2. झारखंड
  - 3. मिज़ोरम
  - 4. ओडिशा

Question ID : 9895806531

Chosen Option : 3

Q.4  
2 रेगिस्तानी क्षेत्र में किस प्रकार की वनस्पति सामान्य रूप से पाई जाती है?

- Ans
- 1. हर्बेशीयस
  - 2. झाड़ी
  - 3. बेलें
  - 4. वृक्ष

Question ID : 9895806548

Chosen Option : 2

Q.4  
3 FM रेडियो का पेटेंट किसने कराया था?

- Ans
- 1. निकोला टेस्ला
  - 2. थॉमस ऐल्वा एडीसन
  - 3. एडविन एच. आर्मस्ट्रांग
  - 4. जॉन लॉगी बेयर्ड

Question ID : 9895806545

Chosen Option : 1

Q.4  
4 भारत में GST कब लागू हुआ?

- Ans
- 1. 1 जुलाई 2017

2. 15 अगस्त 2014

3. 8 नवंबर 2016

4. 2 अक्टूबर 2015

Question ID : 9895806539  
Chosen Option : 1

Q.4  
5 भारत सरकार के द्वारा घोषित न्यूनतम समर्थन मूल्य (MSP) कितनी फसलों के लिए है?

Ans  1. 15

2. 30

3. 25

4. 20

Question ID : 9895806541  
Chosen Option : 2

Q.4  
6 भारतीय राष्ट्रीय कांग्रेस की स्थापना किस शहर में हुई थी?

Ans  1. राजकोट

2. मद्रास

3. बंबई

4. कलकत्ता

Question ID : 9895806555  
Chosen Option : 3

Q.4  
7 विश्व में सबसे बड़ा पेयजल जलाशय कहाँ स्थित है?

Ans  1. सऊदी अरब

2. चीन

3. रूस

4. संयुक्त राज्य अमेरिका

Question ID : 9895806549  
Chosen Option : 3

Q.4  
8 निम्नलिखित में से श्रीलंका का राष्ट्रीय खेल कौन सा है?

Ans  1. वॉलीबॉल

2. बास्केटबॉल

3. हॉकी

4. क्रिकेट

Question ID : 9895806535  
Chosen Option : 2

Q.4  
9 'वाय आई एम ए हिन्दू' पुस्तक के लेखक कौन हैं?

- Ans
- 1. अमीष त्रिपाठी
  - 2. दुर्जोय दत्ता
  - 3. चेतन भगत
  - 4. शशि थरूर

Question ID : 9895806537  
Chosen Option : 1

Q.5  
0 भारतीय पारंपरिक खेल, 'इन्सुकनार' किस राज्य से संबंधित है?

- Ans
- 1. नागालैंड
  - 2. मणिपुर
  - 3. मिज़ोरम
  - 4. मेघालय

Question ID : 9895806534  
Chosen Option : 1

Q.5  
1 तालिका का उचित रूप से अध्ययन करें और आंकड़े की व्याख्या करके उत्तर दें:  
तालिका एक परीक्षा में चार अलग-अलग विषयों में पांच छात्रों द्वारा प्राप्त अंकों का प्रतिशत दर्शाती है।

छात्र	विषय (अधि. अंक)			
	गणित (150)	रसायन विज्ञान (130)	भौतिक विज्ञान (120)	जीव विज्ञान (100)
हरीश	90	50	60	70
रमण	80	30	60	65
राजेश	70	60	80	82
मनोज	35	75	20	72
अजमत	40	35	38	48

रसायन विज्ञान में सभी पांच छात्रों द्वारा प्राप्त औसत अंक क्या है?

- Ans
- 1. 65
  - 2. 70
  - 3. 75
  - 4. 85

Question ID : 9895806603  
Chosen Option : 4

Q.5  
2

केन्द्रीय प्रवृत्ति में माध्य, माध्यिका और बहुलक के बीच संबंध है:

Ans

1. बहुलक = 3 माध्यिका - 2 माध्य  
 2. माध्यिका = 3 बहुलक + 2 माध्य  
 3. बहुलक = 3 माध्यिका + 2 माध्य  
 4. माध्यिका = 3 बहुलक - 2 माध्य

Question ID : 9895806590

Chosen Option : 2

Q.5  
3  $5 + [(28 - 4) \div 2^2 + 2] - 2$  का मान क्या है?

Ans

1. 4  
 2. 7  
 3. 5  
 4. 6

Question ID : 9895806583

Chosen Option : 2

Q.5  
4 दो संख्याओं का अनुपात 8 : 3 है और उनका अंतर 120 है। दोनों संख्याओं में सबसे छोटी संख्या कौन सी है?

Ans

1. 72  
 2. 84  
 3. 162  
 4. 65

Question ID : 9895806592

Chosen Option : 1

Q.5  
5 वार्षिक आधार पर चक्रवृद्धि 5% प्रति वर्ष की ब्याज दर पर ₹800 की राशि कितने समय में ₹882 हो जाएगी?

Ans

1. 3 वर्ष  
 2. 4 वर्ष  
 3. 5 वर्ष  
 4. 2 वर्ष

Question ID : 9895806596

Chosen Option : 4

Q.5  
6  $54 - 2(20 + 12 \div 4 \times 3 - 2 \times 2) + 10$  का मान क्या है?

Ans

1. 12  
 2. 24



✓ 3. 14

✗ 4. 4

Question ID : 9895806582

Chosen Option : 3

Q.5  
7 2 m भुजा वाले घन बॉक्स में 5 cm भुजा वाले कितने घन रखे जा सकते हैं?

Ans ✗ 1. 10000

✗ 2. 46000

✗ 3. 5000

✓ 4. 64000

Question ID : 9895806600

Chosen Option : 4

Q.5  
8 ₹2500 अंकित मूल्य वाली एक शर्ट ₹2200 में मिल रही है, कितने प्रतिशत की छूट प्रदान की गई है?

Ans ✗ 1. 10%

✗ 2. 15%

✓ 3. 12%

✗ 4. 25%

Question ID : 9895806599

Chosen Option : 3

Q.5  
9 यदि 6 व्यक्ति 24 दिन में 36 एकड़ फसल की कटाई करतें हैं, तो 12 व्यक्ति 18 दिनों में कितने एकड़ फसल की कटाई करेंगे?

Ans ✗ 1. 28

✗ 2. 15

✓ 3. 24

✗ 4. 35

Question ID : 9895806587

Chosen Option : 3

Q.6  
0 कितने प्रतिशत प्रति वर्ष की साधारण ब्याज दर पर ₹1800 की राशि 10 वर्षों में ₹2700 हो जाएगी?

Ans ✓ 1. 5%

✗ 2. 12%

✗ 3. 15%

✗ 4. 10%

Question ID : 9895806595

Chosen Option : 1

Q.6  
1 ARITHMETIC शब्द में, I अक्षर के होने का प्रतिशत क्या है?

- Ans
- 1. 15%
  - 2. 25%
  - 3. 10%
  - 4. 20%

Question ID : 9895806591  
Chosen Option : 4

Q.6 वह सबसे छोटी संख्या कौन सी है जिसे 27, 45, 30 से विभाजित किये जाने पर हर मामले में शेष 5 आता है?

- Ans
- 1. 275
  - 2. 260
  - 3. 102
  - 4. 308

Question ID : 9895806581  
Chosen Option : 1

Q.6 रहीम और हरीश क्रमशः 15 दिनों और 10 दिनों में एक काम पूरा कर सकते हैं। यदि वे एक साथ काम करते हैं तो कितने दिनों में वही काम पूरा हो जाएगा?

- Ans
- 1. 30
  - 2. 6
  - 3. 5
  - 4. 25

Question ID : 9895806586  
Chosen Option : 2

Q.6 तालिका का उचित रूप से अध्ययन करें और आंकड़े की व्याख्या करके उत्तर दें:  
तालिका एक परीक्षा में चार अलग-अलग विषयों में पांच छात्रों द्वारा प्राप्त अंकों का प्रतिशत दर्शाती है।

छात्र	विषय (अधि. अंक)			
	गणित (150)	रसायन विज्ञानं (130)	भौतिक विज्ञानं (120)	जीव विज्ञानं (100)
हरीश	90	50	60	70
रमण	80	30	60	65
राजेश	70	60	80	82
मनोज	35	75	20	72
अजमत	40	35	38	48

सभी विषयों में 50% और उससे अधिक अंक प्राप्त करने वाले छात्रों की संख्या है:

- Ans
- 1. 5
  - 2. 3
  - 3. 4
  - 4. 2

Question ID : 9895806604

Chosen Option : 4

Q.6 100 संतरे 400 रुपये में खरीदे जाते हैं और ₹60 प्रति दर्जन की दर से बेचे जाते हैं। लाभ या हानि प्रतिशत है:

- Ans
- 1. 20% हानि
  - 2. 25% लाभ
  - 3. 15% लाभ
  - 4. 30% हानि

Question ID : 9895806598

Chosen Option : 2

Q.6 एक बल्लेबाज अपनी 12 वीं पारी में 60 रन बनाता है और इस तरह उसका औसत रन 2 रन से बढ़ जाता है। उसकी 11 वीं पारी के बाद का औसत रन क्या था?

- Ans
- 1. 63
  - 2. 84
  - 3. 36
  - 4. 48

Question ID : 9895806585

Chosen Option : 3

Q.6 एक समपार्श्व का आधार एक समबाहु त्रिभुज है, जिसकी भुजा 5 m है, और ऊँचाई 20 m है। समपार्श्व का आयतन है:

- Ans
- 1.  $120\sqrt{3}m^3$
  - 2.  $125\sqrt{3}m^3$
  - 3.  $120 m^3$
  - 4.  $125 m^3$

Question ID : 9895806602

Chosen Option : 2

Q.6 दो समबाहु त्रिभुजों का क्षेत्रफल का अनुपात 36 : 64 है। उनकी ऊँचाई का अनुपात होगा:

- Ans
- 1. 8 : 6
  - 2. 36 : 64
  - 3. 64 : 36
  - 4. 6 : 8

Question ID : 9895806601

Chosen Option : 4

Q.6 किसी वस्तु के विक्रय मूल्य और क्रय मूल्य का अनुपात 7 : 3 है। वस्तु के लाभ और विक्रय मूल्य के बीच अनुपात क्या होगा?

- Ans
- 1. 7 : 3

✓ 2. 4 : 7

✗ 3. 7 : 4

✗ 4. 5 : 2

Question ID : 9895806593  
Chosen Option : 2

Q.7 40 किमी प्रति घंटे की गति से चल रही एक ट्रेन द्वारा 150 किमी की दूरी तय करने में लगने वाला समय है:

Ans ✗ 1. 2 घंटे 35 मिनट

✓ 2. 3 घंटे 45 मिनट

✗ 3. 2 घंटे 45 मिनट

✗ 4. 3 घंटे 35 मिनट

Question ID : 9895806588  
Chosen Option : 2

Q.7 पांच संख्याओं का औसत 120 है। यदि एक संख्या को अलग किया जाए, तो शेष चार संख्याओं का औसत 130 है।  
1 अलग की गई संख्या है:

Ans ✓ 1. 80

✗ 2. 75

✗ 3. 110

✗ 4. 120

Question ID : 9895806584  
Chosen Option : 1

Q.7 एक व्यक्ति 60 किमी / घंटा की गति से एक स्थान (P) से दूसरे स्थान (Q) पर जाता है और अपनी गति को 50%  
2 बढ़ाकर Q से वापस आता है। व्यक्ति की औसत गति है:

Ans ✗ 1. 75 km/hr

✗ 2. 74 km/hr

✗ 3. 62 km/hr

✓ 4. 72 km/hr

Question ID : 9895806589  
Chosen Option : 4

Q.7 यदि किसी निश्चित संख्या का 20% किसी अन्य संख्या के 3/4 के बराबर है, तो संख्याओं के बीच अनुपात क्या है?

Ans ✗ 1. 4 : 6

✓ 2. 15 : 4

✗ 3. 4 : 3

✗ 4. 3 : 4

Question ID : 9895806594  
Chosen Option : 2

- Q.7  
4 तालिका का उचित रूप से अध्ययन करें और आंकड़े की व्याख्या करके उत्तर दें:  
तालिका एक परीक्षा में चार अलग-अलग विषयों में पांच छात्रों द्वारा प्राप्त अंकों का प्रतिशत दर्शाती है।

विषय (अधि. अंक)				
छात्र	गणित (150)	रसायन विज्ञानं (130)	भौतिक विज्ञानं (120)	जीव विज्ञानं (100)
हरीश	90	50	60	70
रमण	80	30	60	65
राजेश	70	60	80	82
मनोज	35	75	20	72
अजमत	40	35	38	48

प्रत्येक विषय में 50% से कम अंक प्राप्त करने वाले कितने छात्र हैं:

- Ans
- 1. 4
  - 2. 1
  - 3. 3
  - 4. 2

Question ID : 9895806605

Chosen Option : 3

- Q.7  
5 15 वस्तुओं का क्रय मूल्य 12 वस्तुओं के विक्रय मूल्य के बराबर है। लाभ या हानि प्रतिशत है:

- Ans
- 1. 20% लाभ
  - 2. 25% लाभ
  - 3. 25% हानि
  - 4. 20% हानि

Question ID : 9895806597

Chosen Option : 2

Section : English Language

- Q.1 Select the most appropriate word to fill in the blank.

I read 'Harry Potter' books because they were \_\_\_\_\_ by my friend.

- Ans
- 1. motivated
  - 2. recommended
  - 3. counselled
  - 4. advised

Question ID : 9895806176

Chosen Option : --

Q.2

Select the word which means the same as the group of words given.

A collection of poems

- Ans
- 1. Verse
  - 2. Rhyme
  - 3. Anthology
  - 4. Stanza

Question ID : 9895806174  
Chosen Option : --

Q.3 From the given options, identify the segment in the sentence which contains the grammatical error.

The department will initiate a campaign to promoting organic farming across the State.

- Ans
- 1. to promoting
  - 2. will initiate
  - 3. organic farming
  - 4. across the State

Question ID : 9895806155  
Chosen Option : --

Q.4 Select the most appropriate option to substitute the underlined segment in the given sentence. If there is no need to substitute it, select No improvement.

Evolution is the gradual change over the physical and mental make up of species.

- Ans
- 1. in the physical and mental make-up of species
  - 2. on the physical and mental make-up of species
  - 3. No improvement
  - 4. from the physical and mental make-up of species

Question ID : 9895806159  
Chosen Option : --

Q.5 Select the most appropriate word to fill in the blank.

In what ways has progress in human knowledge \_\_\_\_\_ our environment?

- Ans
- 1. represented
  - 2. reframed
  - 3. aligned
  - 4. altered

Question ID : 9895806177  
Chosen Option : --

Q.6 Select the correctly spelt word.

- Ans
- 1. Permission
  - 2. Permission
  - 3. Parmission
  - 4. Permmission

Question ID : 9895806179  
Chosen Option : --

**Comprehension:**

In the following passage some words have been deleted. Fill in the blanks with the help of the alternatives given.

Lions live for around 10-14 years in the wild, while in (1) \_\_\_\_\_ they can live over 20 years. In the wild, males seldom live longer than ten years as fights with rivals occasionally cause them (2) \_\_\_\_\_. They typically (3) \_\_\_\_\_ Savanna and grassland, although they may take to bush and forest. A (4) \_\_\_\_\_ of lions consists of related females and offspring and some adult males. Groups of female lions typically hunt together (5) \_\_\_\_\_ mostly on large hoofed animals.

SubQuestion No : 7

- Q.7 Select the most appropriate option that will fill in the blank number 1.

- Ans
- 1. caves
  - 2. forest
  - 3. captivity
  - 4. cage

Question ID : 9895806163  
Chosen Option : --

**Comprehension:**

In the following passage some words have been deleted. Fill in the blanks with the help of the alternatives given.

Lions live for around 10-14 years in the wild, while in (1) \_\_\_\_\_ they can live over 20 years. In the wild, males seldom live longer than ten years as fights with rivals occasionally cause them (2) \_\_\_\_\_. They typically (3) \_\_\_\_\_ Savanna and grassland, although they may take to bush and forest. A (4) \_\_\_\_\_ of lions consists of related females and offspring and some adult males. Groups of female lions typically hunt together (5) \_\_\_\_\_ mostly on large hoofed animals.

SubQuestion No : 8

- Q.8 Select the most appropriate option that will fill in the blank number 2.

- Ans
- 1. injuries
  - 2. loss

3. damage

4. harm

Question ID : 9895806164

Chosen Option : --

**Comprehension:**

In the following passage some words have been deleted. Fill in the blanks with the help of the alternatives given.

Lions live for around 10-14 years in the wild, while in (1) \_\_\_\_\_ they can live over 20 years. In the wild, males seldom live longer than ten years as fights with rivals occasionally cause them (2) \_\_\_\_\_. They typically (3) \_\_\_\_\_ Savanna and grassland, although they may take to bush and forest. A (4) \_\_\_\_\_ of lions consists of related females and offspring and some adult males. Groups of female lions typically hunt together (5) \_\_\_\_\_ mostly on large hoofed animals.

SubQuestion No : 9

Q.9 Select the most appropriate option that will fill in the blank number 3.

- Ans
- 1. breed
  - 2. inhabit
  - 3. grow
  - 4. nurture

Question ID : 9895806165

Chosen Option : --

**Comprehension:**

In the following passage some words have been deleted. Fill in the blanks with the help of the alternatives given.

Lions live for around 10-14 years in the wild, while in (1) \_\_\_\_\_ they can live over 20 years. In the wild, males seldom live longer than ten years as fights with rivals occasionally cause them (2) \_\_\_\_\_. They typically (3) \_\_\_\_\_ Savanna and grassland, although they may take to bush and forest. A (4) \_\_\_\_\_ of lions consists of related females and offspring and some adult males. Groups of female lions typically hunt together (5) \_\_\_\_\_ mostly on large hoofed animals.

SubQuestion No : 10

Q.10 Select the most appropriate option that will fill in the blank number 4.

- Ans
- 1. bunch
  - 2. flock
  - 3. pack
  - 4. pride



Question ID : 9895806166

Chosen Option : --

**Comprehension:**

In the following passage some words have been deleted. Fill in the blanks with the help of the alternatives given.

Lions live for around 10-14 years in the wild, while in (1) \_\_\_\_\_ they can live over 20 years. In the wild, males seldom live longer than ten years as fights with rivals occasionally cause them (2) \_\_\_\_\_. They typically (3) \_\_\_\_\_ Savanna and grassland, although they may take to bush and forest. A (4) \_\_\_\_\_ of lions consists of related females and offspring and some adult males. Groups of female lions typically hunt together (5) \_\_\_\_\_ mostly on large hoofed animals.

SubQuestion No : 11

Q.1  
1 Select the most appropriate option that will fill in the blank number 5.

- Ans
- 1. preying
  - 2. consuming
  - 3. eating
  - 4. snatching

Question ID : 9895806167

Chosen Option : --

Q.1  
2 From the given options, identify the segment in the sentence which contains the grammatical error.

Gazing out of the train window as I travelled upon the country, I was introduced to a new India.

- Ans
- 1. Gazing out
  - 2. introduced to
  - 3. a new India
  - 4. upon the

Question ID : 9895806154

Chosen Option : --

Q.1  
3 Select the correctly spelt word.

- Ans
- 1. Commamorate
  - 2. Comamorate
  - 3. Commemorate
  - 4. Comemorate

Question ID : 9895806178

Chosen Option : --

Q.1  
4

Select the antonym of the given word.

PAUCITY

- Ans
- 1. Flexibility
  - 2. Shortage
  - 3. Surplus
  - 4. Lack

Question ID : 9895806171  
Chosen Option : --

Q.1  
5 Select the most appropriate synonym of the given word.

MANDATORY

- Ans
- 1. Advanced
  - 2. Compulsory
  - 3. Elementary
  - 4. Lucid

Question ID : 9895806169  
Chosen Option : --

Q.1  
6 Select the most appropriate option to fill in the blank.

In my opinion, he is the \_\_\_\_\_ of all the brothers.

- Ans
- 1. brightest
  - 2. brightly
  - 3. bright
  - 4. brighter

Question ID : 9895806161  
Chosen Option : --

Q.1  
7 From the given options, identify the segment in the sentence which contains the grammatical error.

The football team had won the series abroad after a decade and brings home the trophy.

- Ans
- 1. abroad after
  - 2. and brings
  - 3. won the series
  - 4. a decade

Question ID : 9895806156  
Chosen Option : --

Q.1

8 Select the option that means the same as the given idiom.

Fair weather friends

- Ans
- 1. Friends in good times
  - 2. Good company for holidays
  - 3. Friends who are always happy
  - 4. Friends who keep you happy

Question ID : 9895806173  
Chosen Option : --

Q.1 Select the most appropriate option to substitute the underlined segment in the given sentence. If there is no need to substitute it, select No improvement.

9

He searched for his files across the chest of drawers.

- Ans
- 1. No improvement
  - 2. in the chest of drawers
  - 3. above the chest of drawers
  - 4. into the chest of drawers

Question ID : 9895806157  
Chosen Option : --

Q.2 Select the option that means the same as the given idiom.

0

To be in hot water

- Ans
- 1. To be unreliable
  - 2. To be in trouble
  - 3. To be praised
  - 4. To be depended on

Question ID : 9895806172  
Chosen Option : --

Q.2 Select the most appropriate option to fill in the blank.

1

There is nothing that \_\_\_\_\_ of us can do to solve the problem.

- Ans
- 1. no one
  - 2. every one
  - 3. none
  - 4. any

Question ID : 9895806160  
Chosen Option : --

Q.2

2 Select the antonym of the given word.

GORGEOUS

- Ans
- 1. Ordinary
  - 2. Beautiful
  - 3. Decorative
  - 4. Smart

Question ID : 9895806170

Chosen Option : --

Q.2 Select the most appropriate option to substitute the underlined segment in the given sentence. If there is no need to substitute it, select No improvement.

3

He do not register his dissent to the proposal put forward by the member.

- Ans
- 1. does not registered his dissent to
  - 2. did not registered his dissent to
  - 3. No improvement
  - 4. did not register his dissent to

Question ID : 9895806158

Chosen Option : --

Q.2 Select the word which means the same as the group of words given.

4

Country treated as permanent home by an individual

- Ans
- 1. Dwelling
  - 2. Residence
  - 3. Neighbourhood
  - 4. Domicile

Question ID : 9895806175

Chosen Option : --

Q.2 Select the most appropriate synonym of the given word.

5

FUTILE

- Ans
- 1. Juicy
  - 2. Uninteresting
  - 3. Useless
  - 4. Boring

Question ID : 9895806168

Chosen Option : --

## Section : Hindi Language

Q.1 निम्नलिखित में से उस विकल्प का चयन करें जो 'पाँचों उँगलियों घी में होना' मुहावरे का अर्थ व्यक्त करता है।

- Ans
- 1. उँगलियाँ चाटना
  - 2. उँगलियाँ घी में डालकर बैठना
  - 3. सब प्रकार से लाभ ही लाभ
  - 4. हानि होना

Question ID : 9895805966  
Chosen Option : 3

Q.2 रिक्त स्थान को भरने के लिए उपयुक्त शब्द का चयन करें।

चिड़िया पेड़ \_\_\_\_\_ बैठी है।

- Ans
- 1. पर
  - 2. बाहर
  - 3. भीतर
  - 4. अंदर

Question ID : 9895805955  
Chosen Option : 1

Q.3 दिए गए शब्द के पर्यायवाची शब्द का चयन करें।

पर्वत

- Ans
- 1. शैल
  - 2. भुजंग
  - 3. पवन
  - 4. पावन

Question ID : 9895805964  
Chosen Option : 1

Q.4 दिए गए वाक्य में रेखांकित खंड को प्रतिस्थापित करने के लिए उपयुक्त विकल्प का चयन करें।

हम जैसे बीज बोते हैं ऐसे ही पेड़ और फल होते हैं।

- Ans
- 1. वैसे ही पेड़ और फल
  - 2. वैसा ही पेड़ और फल
  - 3. उतना ही पेड़ और फल
  - 4. जैसे ही पेड़ और फल

Question ID : 9895805951

Chosen Option : 1

Q.5 दिये गये वाक्यांश के लिए एक शब्द चुनिए।

बहुत तीव्र चलने वाला

- Ans
- 1. आगामी
  - 2. प्रतिगामी
  - 3. अल्पगामी
  - 4. द्रुतगामी

Question ID : 9895805969

Chosen Option : 4

Q.6 दिए गए शब्द का विलोम चुनें।

सर्वदा

- Ans
- 1. सरिता
  - 2. सदा
  - 3. यदा-कदा
  - 4. सब तरफ

Question ID : 9895805962

Chosen Option : 3

Q.7 दिए गए वाक्य का वह भाग ज्ञात करें जिसमें कोई त्रुटि है।

विकास वाहक उपकरणों ने अनके प्रकार का समस्याएँ उत्पन्न कर दी हैं।

- Ans
- 1. उत्पन्न कर दी हैं।
  - 2. का समस्याएँ
  - 3. अनके प्रकार
  - 4. विकास वाहक उपकरणों ने

Question ID : 9895805946

Chosen Option : 2

Comprehension:

निम्नलिखित गद्यांश के रिक्त स्थानों की पूर्ति गद्यांश के नीचे दिए गए प्रश्नों के अनुसार कीजिए -

आज के युवा कल के भविष्य हैं। देश की उन्नति का आधार युवा वर्ग को ही माना जाता है। युवाओं में इतना \_\_\_\_\_ (1) एवं शक्ति होती है कि वे किसी भी परेशानी का सामना कर सकते हैं। इनके जीने की अपनी एक अलग \_\_\_\_\_ (2) होती है। युवा वर्ग में हर समय कुछ नया करने का \_\_\_\_\_ (3) होता है। आज इन्हीं सब की देन है कि हमारी सेना दिन-प्रतिदिन \_\_\_\_\_ (4) होती जा रही है। परन्तु कई कारणों से युवाओं में पाश्चात्य संस्कृति का प्रभाव एवं आधुनिक रहन-सहन की धारणा उत्पन्न हो रही है, जिसके कारण वे अपने नैतिक \_\_\_\_\_ (5) की अवहेलना करने लगे हैं।

SubQuestion No : 8

Q.8 गद्यांश में संकेतित रिक्त स्थान (1) के लिए उपयुक्त शब्द होगा -

- Ans
- 1. खुशी
  - 2. साहस
  - 3. शांति
  - 4. पानी

Question ID : 9895805957

Chosen Option : 2

Comprehension:

निम्नलिखित गद्यांश के रिक्त स्थानों की पूर्ति गद्यांश के नीचे दिए गए प्रश्नों के अनुसार कीजिए -

आज के युवा कल के भविष्य हैं। देश की उन्नति का आधार युवा वर्ग को ही माना जाता है। युवाओं में इतना \_\_\_\_\_ (1) एवं शक्ति होती है कि वे किसी भी परेशानी का सामना कर सकते हैं। इनके जीने की अपनी एक अलग \_\_\_\_\_ (2) होती है। युवा वर्ग में हर समय कुछ नया करने का \_\_\_\_\_ (3) होता है। आज इन्हीं सब की देन है कि हमारी सेना दिन-प्रतिदिन \_\_\_\_\_ (4) होती जा रही है। परन्तु कई कारणों से युवाओं में पाश्चात्य संस्कृति का प्रभाव एवं आधुनिक रहन-सहन की धारणा उत्पन्न हो रही है, जिसके कारण वे अपने नैतिक \_\_\_\_\_ (5) की अवहेलना करने लगे हैं।

SubQuestion No : 9

Q.9

गद्यांश में संकेतित रिक्त स्थान (2) के लिए उपयुक्त

शब्द होगा -

Ans

1. शैली  
 2. जिज्ञासा  
 3. उत्साह  
 4. तरीका

Question ID : 9895805958

Chosen Option : 1

Comprehension:

निम्नलिखित गद्यांश के रिक्त स्थानों की पूर्ति गद्यांश के नीचे दिए गए प्रश्नों के अनुसार कीजिए -

आज के युवा कल के भविष्य हैं। देश की उन्नति का आधार युवा वर्ग को ही माना जाता है। युवाओं में इतना \_\_\_\_\_ (1) एवं शक्ति होती है कि वे किसी भी परेशानी का सामना कर सकते हैं। इनके जीने की अपनी एक अलग \_\_\_\_\_ (2) होती है। युवा वर्ग में हर समय कुछ नया करने का \_\_\_\_\_ (3) होता है। आज इन्हीं सब की देन है कि हमारी सेना दिन-प्रतिदिन \_\_\_\_\_ (4) होती जा रही है। परन्तु कई कारणों से युवाओं में पाश्चात्य संस्कृति का प्रभाव एवं आधुनिक रहन-सहन की धारणा उत्पन्न हो रही है, जिसके कारण वे अपने नैतिक \_\_\_\_\_ (5) की अवहेलना करने लगे हैं।

SubQuestion No : 10

Q.1 गद्यांश में संकेतित रिक्त स्थान (3) के लिए उपयुक्त

शब्द होगा -

Ans

1. डर  
 2. प्रेम  
 3. सपना  
 4. आदर

Question ID : 9895805959

Chosen Option : 3

Comprehension:



निम्नलिखित गद्यांश के रिक्त स्थानों की पूर्ति गद्यांश के नीचे दिए गए प्रश्नों के अनुसार कीजिए -

आज के युवा कल के भविष्य हैं। देश की उन्नति का आधार युवा वर्ग को ही माना जाता है। युवाओं में इतना \_\_\_\_\_ (1) एवं शक्ति होती है कि वे किसी भी परेशानी का सामना कर सकते हैं। इनके जीने की अपनी एक अलग \_\_\_\_\_ (2) होती है। युवा वर्ग में हर समय कुछ नया करने का \_\_\_\_\_ (3) होता है। आज इन्हीं सब की देन है कि हमारी सेना दिन-प्रतिदिन \_\_\_\_\_ (4) होती जा रही है। परन्तु कई कारणों से युवाओं में पाश्चात्य संस्कृति का प्रभाव एवं आधुनिक रहन-सहन की धारणा उत्पन्न हो रही है, जिसके कारण वे अपने नैतिक \_\_\_\_\_ (5) की अवहेलना करने लगे हैं।

SubQuestion No : 11

Q.1  
1 गद्यांश में संकेतित रिक्त स्थान (4) के लिए उपयुक्त शब्द होगा -

- Ans
- 1. कमजोर
  - 2. मजबूत
  - 3. दुर्बल
  - 4. मलिन

Question ID : 9895805960  
Chosen Option : 2

Comprehension:

निम्नलिखित गद्यांश के रिक्त स्थानों की पूर्ति गद्यांश के नीचे दिए गए प्रश्नों के अनुसार कीजिए -

आज के युवा कल के भविष्य हैं। देश की उन्नति का आधार युवा वर्ग को ही माना जाता है। युवाओं में इतना \_\_\_\_\_ (1) एवं शक्ति होती है कि वे किसी भी परेशानी का सामना कर सकते हैं। इनके जीने की अपनी एक अलग \_\_\_\_\_ (2) होती है। युवा वर्ग में हर समय कुछ नया करने का \_\_\_\_\_ (3) होता है। आज इन्हीं सब की देन है कि हमारी सेना दिन-प्रतिदिन \_\_\_\_\_ (4) होती जा रही है। परन्तु कई कारणों से युवाओं में पाश्चात्य संस्कृति का प्रभाव एवं आधुनिक रहन-सहन की धारणा उत्पन्न हो रही है, जिसके कारण वे अपने नैतिक \_\_\_\_\_ (5) की अवहेलना करने लगे हैं।

SubQuestion No : 12

Q.1

2 गद्यांश में संकेतित रिक्त स्थान (5) के लिए उपयुक्त शब्द होगा -

- Ans
- 1. गानों
  - 2. कीमतों
  - 3. मूल्यों
  - 4. फिल्मों

Question ID : 9895805961  
Chosen Option : 3

Q.1  
3 रिक्त स्थान को भरने के लिए उपयुक्त शब्द का चयन करें।

हम घूमने \_\_\_\_\_।

- Ans
- 1. जाएँगे
  - 2. देखेंगे
  - 3. चाहेंगे
  - 4. गाएँगे

Question ID : 9895805953  
Chosen Option : 1

Q.1  
4 सही वर्तनी वाले शब्द का चयन करें।

- Ans
- 1. रूपवान
  - 2. रुपवान
  - 3. रूपबान
  - 4. रूपावन

Question ID : 9895805971  
Chosen Option : 1

Q.1  
5 दिए गए वाक्य का वह भाग ज्ञात करें जिसमें कोई त्रुटि है।

सौरभ अपनी नाक का ऊपर मक्खी भी नहीं बैठने देता।

- Ans
- 1. नहीं बैठने देता।
  - 2. नाक का ऊपर
  - 3. सौरभ अपनी
  - 4. मक्खी भी

Question ID : 9895805947  
Chosen Option : 2

Q.1  
6 दिए गए शब्द के पर्यायवाची शब्द का चयन करें।

किनारा

- Ans
- 1. गंगा
  - 2. तट
  - 3. नदी
  - 4. संगम

Question ID : 9895805965  
Chosen Option : 2

Q.1  
7 रिक्त स्थान को भरने के लिए उपयुक्त शब्द का चयन करें।

अच्छे बालक \_\_\_\_\_ करते हैं।

- Ans
- 1. गलिगलौज
  - 2. चोरी
  - 3. पढाई
  - 4. लड़ाई

Question ID : 9895805954  
Chosen Option : 3

Q.1  
8 सही वर्तनी वाले शब्द का चयन करें।

- Ans
- 1. पत्रकार
  - 2. पत्राकर
  - 3. पत्रकार
  - 4. पत्रकर

Question ID : 9895805970  
Chosen Option : 3

Q.1  
9 दिए गए वाक्य में रेखांकित खंड को प्रतिस्थापित करने के लिए उपयुक्त विकल्प का चयन करें।

अक्षरों से बनी लिपियों की महत्त्व है।

- Ans
- 1. लिपियों के महत्त्व है।
  - 2. लिपियों ने महत्त्व है।
  - 3. लिपियों को महत्त्व है।
  - 4. लिपियों का महत्त्व है।

Question ID : 9895805950  
Chosen Option : 4

Q.2  
0 दिए गए शब्द का विलोम चुनें।

योग

- Ans
- 1. नीरोग
  - 2. संयोग
  - 3. आसन
  - 4. वियोग

Question ID : 9895805963  
Chosen Option : 4

Q.2  
1 दिये गये वाक्यांश के लिए एक शब्द चुनिए।

सदा रहने वाला

- Ans
- 1. शाश्वत
  - 2. संविदा
  - 3. सदाचारी
  - 4. सदाशील

Question ID : 9895805968  
Chosen Option : 1

Q.2  
2 निम्नलिखित में से उस विकल्प का चयन करें जो 'पाँव जमीन पर न पड़ना' मुहावरे का अर्थ व्यक्त करता है।

- Ans
- 1. अत्यधिक खुश होना
  - 2. जमीन से ऊपर पाँव रखना
  - 3. आसमान में उड़ना
  - 4. कल्पना करना

Question ID : 9895805967  
Chosen Option : 1

Q.2  
3 दिए गए वाक्य का वह भाग ज्ञात करें जिसमें कोई त्रुटि है।

वनों की अंधाधुंध कटाई से स्वच्छ वायु मिलनी कठिन हो गया है।

- Ans
- 1. वनों की अंधाधुंध
  - 2. मिलनी कठिन हो गया है।
  - 3. स्वच्छ वायु
  - 4. कटाई से

Question ID : 9895805948

Chosen Option : 2

Q.2  
4 रिक्त स्थान को भरने के लिए उपयुक्त शब्द का चयन करें।

वह आलमारी \_\_\_\_\_ की बनी है।

- Ans
- 1. रंग
  - 2. कपडा
  - 3. लोहे
  - 4. मिट्टी

Question ID : 9895805952

Chosen Option : 3

Q.2  
5 दिए गए वाक्य में रेखांकित खंड को प्रतिस्थापित करने के लिए उपयुक्त विकल्प का चयन करें।

दादाजी समाचार पत्र पढ़ रहे हैं और दादी जी पूजा कर रहे हैं।

- Ans
- 1. दादी जी पूजा कर रही थे।
  - 2. दादी जी पूजा कर रही हैं।
  - 3. दादी जी पूजा कर रहा है।
  - 4. दादी जी पूजा कर रहे है।

Question ID : 9895805949

Chosen Option : 2