

Constable (GD) in CAPFs, NIA, SSF and Rifleman (GD) in Assam Rifles Examination, 2018

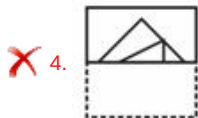
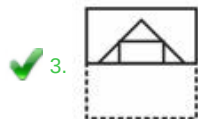
Roll No. :	
Registration No.	
Name :	
Exam Venue :	
Exam Time :	9:00 AM - 10:30 AM
Exam Date :	21/02/2019

Section : General Section

Q.1 एक वर्गाकार पारदर्शी शीट एक पैटर्न के साथ दी गई है। यही पैटर्न तब कैसा दिखाई देगा जब उसे बिंदीदार रेखा के साथ-साथ मोड़ा जाता है?



Ans





Question ID : 9895804000
Chosen Option : 3

Q.2 इन चार विकल्पों में से वह आकृति चुनें, जिसे आकृति X में रिक्त स्थान (?) में रखने से पैटर्न पूर्ण हो जाएगा। (घुमाने की अनुमति नहीं है)।



Ans



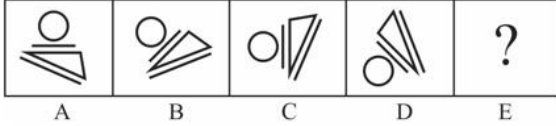
Question ID : 9895803997
Chosen Option : 1

Q.3 प्रदत्त विकल्पों में से विषम विकल्प चुनें।

- Ans
- ✓ 1. QSC
 - ✗ 2. HIL
 - ✗ 3. EKM
 - ✗ 4. RGD

Question ID : 9895803978
Chosen Option : 2

Q.4 विकल्पों में से उस आकृति का चयन करें जो दी गई श्रृंखला में अगले स्थान पर आएगी।



Ans

- ✓ 1.
- ✗ 2.
- ✗ 3.
- ✗ 4.

Question ID : 9895803996
Chosen Option : 1

Q.5 वह विकल्प चुनें जो तीसरे पद से उसी प्रकार से संबंधित है जिस प्रकार से दूसरा पद पहले पद से संबंधित है।

मेल : मिश्रण : : अनुरोध : ?

- Ans
- ✗ 1. स्वीकार
 - ✓ 2. विनती
 - ✗ 3. अस्वीकार
 - ✗ 4. टिप्पण

Question ID : 9895803980
Chosen Option : 3

Q.6 निम्न समीकरण को सही करने के लिए दो आपस में बदले जाने वाले चिहनों का पता लगाएँ।

$$18 + 3 \times 27 - 9 \div 3 = 78$$

- Ans
- ✗ 1. + और -
 - ✗ 2. - और ÷

3. + और ÷

4. + और ×

Question ID : 9895803995

Chosen Option : 4

Q.7 नीचे दिए गए कथनों के बाद दो निष्कर्ष दिए गए हैं जिन्हें I और II से चिह्नित किया गया है। मान लें कि इन कथनों में दी गई जानकारी सही है, भले ही सामान्य स्थापित तथ्यों से भिन्न हो और तय करें कि इनमें से कौन सा (से) निष्कर्ष तार्किक आधार पर और निश्चित रूप से कथनों में प्रदत्त जानकारी का अनुसरण करता (ते) है (हैं)।

कथन:

- 1) कुछ स्टोर कमरे हैं।
- 2) कुछ कमरे पोस्टर हैं।

निष्कर्ष:

- I. कुछ कमरे स्टोर हैं।
- II. कुछ पोस्टर कमरे हैं।

Ans 1. केवल निष्कर्ष I अनुसरण करता है।

2. न तो निष्कर्ष I और न ही निष्कर्ष II अनुसरण करता है।

3. दोनों निष्कर्ष अनुसरण करते हैं।

4. केवल निष्कर्ष II अनुसरण करता है।

Question ID : 9895803989

Chosen Option : 3

Q.8 वह विकल्प चुनें जो प्रदत्त श्रृंखला में प्रश्न चिह्न (?) के स्थान पर आएगा।

0, 8, 24, 48, ?

Ans 1. 81

2. 80

3. 87

4. 89

Question ID : 9895803990

Chosen Option : 2

Q.9 वह विकल्प चुनें जो तीसरी संख्या से उसी प्रकार से संबंधित है जिस प्रकार से दूसरी संख्या पहली संख्या से संबंधित है।

12 : 180 :: 14 : ?

Ans 1. 221

2. 238

3. 169

4. 144

Question ID : 9895803992

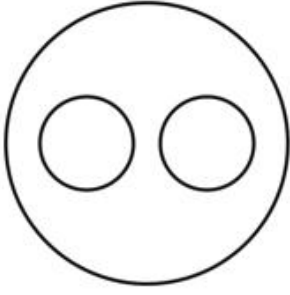
Chosen Option : 1

Q.1 निम्नलिखित में से कौन सा वेन रेखाचित्र दिए गए वर्ग के बीच के संबंध को सही दर्शाता है?


जानवर, स्तनपायी, हिरण

Ans

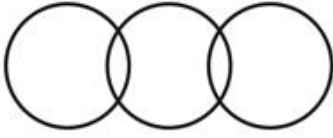
✗ 1.



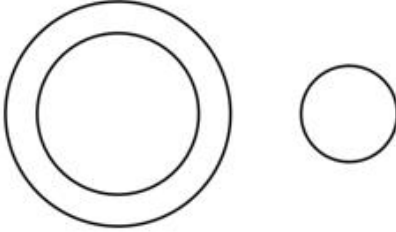
✓ 2.



✗ 3.



✗ 4.



Question ID : 9895804001
Chosen Option : 2

Q.1 वह विकल्प चुनें जो तीसरे पद से उसी प्रकार से संबंधित है जिस प्रकार से दूसरा पद पहले पद से संबंधित है।

1 प्रारंभिक : अंतिम :: विलाप : ?

Ans

✗ 1. पुनर्कथन

✗ 2. बड़बड़ाहट

✓ 3. खुशी

✗ 4. स्मरण

Question ID : 9895803981
Chosen Option : 4

Q.1 एक ही रनवे है और सात हवाईजहाज बारी-बारी से उसका उपयोग करेंगे। P और Q में से कोई भी न तो पहले और न ही अंत में उपयोग करेगा। S R के बाद उपयोग करेगा। M O से पहले उपयोग करेगा। N O के बाद और R से पहले उपयोग करेगा। Q ठीक S से पहले रनवे का उपयोग करेगा। मध्य में कौन रनवे का उपयोग करेगा?

Ans

✗ 1. P

✗ 2. O

✓ 3. N

✗ 4. Q

Question ID : 9895803987
Chosen Option : 2

Q.1

3 प्रदत्त विकल्पों में से विषम संख्या चुनें।

- Ans
- 1. 157
 - 2. 161
 - 3. 151
 - 4. 163

Question ID : 9895803993
Chosen Option : 3

Q.1 एक निश्चित कोड में, VIROLOGY को LOGYVIRO लिखा जाता है। इसी कोड में SEMANTIC को क्या लिखा जाएगा?

- Ans
- 1. NTJCSEMA
 - 2. NTICSEMA
 - 3. NTICSFMA
 - 4. CITNAMES

Question ID : 9895803983
Chosen Option : 2

Q.1 नीचे दिए गए कथनों के बाद दो निष्कर्ष दिए गए हैं जिन्हें I और II से चिह्नित किया गया है। मान लें कि इन कथनों में दी गई जानकारी सही है, भले ही सामान्य स्थापित तथ्यों से भिन्न हो और तय करें कि इनमें से कौन सा (से) निष्कर्ष तार्किक आधार पर और निश्चित रूप से कथनों में प्रदत्त जानकारी का अनुसरण करता (ते) है (हैं)।

कथन:

- 1) सभी ग्राहक क्लाइंट हैं।
- 2) सभी क्लाइंट दवाइयाँ हैं।

निष्कर्ष:

- I. कुछ दवाइयाँ ग्राहक हैं।
- II. कुछ दवाइयाँ क्लाइंट हैं।

- Ans
- 1. केवल निष्कर्ष I अनुसरण करता है।
 - 2. या तो निष्कर्ष I या निष्कर्ष II अनुसरण करता है।
 - 3. दोनों निष्कर्ष अनुसरण करते हैं।
 - 4. केवल निष्कर्ष II अनुसरण करता है।

Question ID : 9895803988
Chosen Option : 4

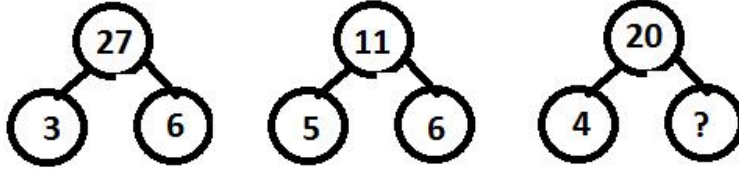
Q.1 एक निश्चित कोड में, OPTIMIST को 121 लिखा जाता है। इसी कोड में PESSIMIST को क्या लिखा जाएगा?

- Ans
- 1. 131
 - 2. 105
 - 3. 127
 - 4. 129

Question ID : 9895803984
Chosen Option : 4

Q.1
7

वह विकल्प चुनें जो प्रदत्त पैटर्न में प्रश्न चिह्न (?) के स्थान पर आएगा।



- Ans
- 1. 24
 - 2. 8
 - 3. 6
 - 4. 36

Question ID : 9895803994
Chosen Option : 3

Q.1 वह विकल्प चुनें जो प्रदत्त श्रृंखला में प्रश्न चिह्न (?) के स्थान पर आएगा।

12, 22, 42, 82, ?

- Ans
- 1. 162
 - 2. 182
 - 3. 152
 - 4. 172

Question ID : 9895803991
Chosen Option : 1

Q.1 प्रदत्त विकल्पों में से विषम विकल्प चुनें।

- Ans
- 1. मैग्नीशियम
 - 2. टंगस्टन
 - 3. सिलिकॉन
 - 4. ऑरम

Question ID : 9895803979
Chosen Option : 4

Q.2 उस विकल्प का चयन करें जो, अगर दर्पण को दाईं ओर रखा जाए तो, दिए गए शब्द की दर्पण छवि से सबसे निकट मेल खाता हो।

HOMAGE

- Ans
- 1. HOMAGE
 - 2. HOMAGE
 - 3. HOMAGE
 - 4. HOWAGE

Question ID : 9895803999
Chosen Option : 3

Q.2

1 सात दोस्त O, P, Q, R, S, T और U स्टेडियम में बैठे क्रिकेट मैच देख रहे हैं। P किसी एक छोर पर बैठा है। T Q और U के बीच बैठा है और R, S के ठीक दाईं ओर बैठा है और Q के ठीक बाईं ओर बैठा है। U P के बाईं ओर से दूसरे स्थान पर बैठा है। U और P के बीच कौन बैठा है?

- Ans
- 1. Q
 - 2. S
 - 3. O
 - 4. R

Question ID : 9895803985

Chosen Option : 3

Q.2 वह विकल्प चुनें जो प्रदत्त श्रृंखला में प्रश्न चिह्न (?) के स्थान पर आएगा।

PRL, QPM, RNN, SLO, ?

- Ans
- 1. TJP
 - 2. TIP
 - 3. TKP
 - 4. TIO

Question ID : 9895803977

Chosen Option : 1

Q.2 आठ दोस्त A, B, C, D, E, F, H और G सामूहिक चर्चा के लिए एक गोल मेज के इर्द-गिर्द एक दूसरे की तरफ मुँह करके बैठे हैं। A F के सामने है और E से दाईं ओर दूसरे स्थान पर है। G C और A के बीच है। H E की बाईं ओर है। A के ठीक बाईं ओर कौन बैठा है?

- Ans
- 1. या G या D
 - 2. C
 - 3. या B या D
 - 4. B

Question ID : 9895803986

Chosen Option : 1

Q.2 इन चार विकल्पों में से उस आकृति का चयन करें, जिसे आकृति X के रिक्त स्थान (?) में रखने से पैटर्न पूर्ण कर दें। (घूर्णन की अनुमति नहीं है)।



x

Ans

- 1.
- 2.
- 3.
- 4.

Question ID : 9895803998
Chosen Option : 1

Q.2 वह विकल्प चुनें जो तीसरे पद से उसी प्रकार से संबंधित है जिस प्रकार से दूसरा पद पहले पद से संबंधित है।

AC : CI :: GH : ?

- Ans
- 1. UY
 - 2. UU
 - 3. UV
 - 4. UX

Question ID : 9895803982
Chosen Option : 4

Q.2 जैनियों का पवित्र स्थान श्रवणबेलगोला कर्नाटक के किस जिले में स्थित है?

- Ans
- 1. बेल्लारी जिला
 - 2. हसन जिला
 - 3. शिमोगा जिला
 - 4. मैसूर जिला

Question ID : 9895806405
Chosen Option : 4

Q.2 महात्मा गांधी द्वारा शुरू किया गया पहला प्रमुख राष्ट्रव्यापी सत्याग्रह किसके विरोध में था?

- Ans
- 1. कड़ी उत्पादों पर कार
 - 2. बंगाल का विभाजन
 - 3. नमक कर
 - 4. रौलेट एक्ट

Question ID : 9895806383
Chosen Option : 3

Q.2 गोलकुंडा किले का निर्माण 13 वीं शताब्दी में _____ राजवंश द्वारा किया गया था।

- Ans
- 1. चोल
 - 2. पेरियार
 - 3. काकतीय
 - 4. चालुक्य

Question ID : 9895806404
Chosen Option : 1

Q.2 निम्नलिखित में से कौन सा कथन एंजियोस्पर्म के बारे में सही नहीं है?

- Ans
- 1.

कोनिफर्स, सायकेड्स और गीन्कगो एंजियोस्पर्म के उदाहरण हैं।

- 2. प्रजनन करने से पहले उन्हें परागण से गुजरना पड़ता है।

3. फूलों के प्रजनन अंग होते हैं।
4. उनके तने, पत्ते और जड़ें होती हैं।

Question ID : 9895806389
Chosen Option : 1

Q.3
0 तैमूर ने किसके शासनकाल के दौरान भारत पर आक्रमण किया था?

- Ans 1. फ़िरोज़ शाह तुग़लक
2. नासिर-उद्द-दीन महमूद शाह तुग़लक
3. अकबर
4. अलाउद्दीन खिलजी

Question ID : 9895806382
Chosen Option : 1

Q.3
1 गीता गोपीनाथ किस संस्था के मुख्य अर्थशास्त्री के पद पर काबिज होने वाली पहली महिला बनीं?

- Ans 1. विश्व बैंक
2. अंतरराष्ट्रीय मुद्रा कोष
3. विश्व व्यापार संगठन
4. UNESCO (यूनेस्को)

Question ID : 9895806398
Chosen Option : 2

Q.3
2 भारत सरकार समय-समय पर कृषि उपज का न्यूनतम समर्थन मूल्य (एमएसपी) जारी करती है। MSP का पूर्ण रूप क्या है?

- Ans 1. मैक्सिमम सेलिंग प्राइज़
2. मिनीमम सपोर्ट प्राइज़
3. मिनीमम सेलिंग प्राइज़
4. मैक्सिमम सपोर्ट प्राइज़

Question ID : 9895806397
Chosen Option : 1

Q.3
3 भारत का संविधान 26 जनवरी 1950 को लागू हुआ था। किस अधिनियम या शासन दस्तावेज को इसने प्रतिस्थापित किया था?

- Ans 1. भारत सरकार अधिनियम, 1858
2. भारतीय परिषद अधिनियम, 1892
3. भारत सरकार अधिनियम, 1935
4. विनियमन अधिनियम, 1773

Question ID : 9895806392
Chosen Option : 1

Q.3
4 शुष्क बर्फ किस का ठोस रूप है?

- Ans
- 1. कार्बन डाइऑक्साइड
 - 2. मीथेन
 - 3. ऑक्सीजन
 - 4. ओज़ोन

Question ID : 9895806390
Chosen Option : 4

Q.3
5 'बोर एंड पीस' पुस्तक किसने लिखी है?

- Ans
- 1. एंटोन चेखोव
 - 2. लियो टॉल्स्टॉय
 - 3. कार्ल मार्क्स
 - 4. व्लादीमीर लेनिन

Question ID : 9895806400
Chosen Option : 3

Q.3
6 जलवायु के संदर्भ में ITCZ का पूर्ण रूप क्या है?

- Ans
- 1. इंटर ट्रोपिकल कन्वेर्जेस ज़ोन
 - 2. इस्लान्दिक ट्रापिकल क्लाइमेट ज़ोन
 - 3. इंद्रा टेम्परेट कंट्रोल ज़ोन
 - 4. इंडियन ट्राफ़ कन्वेर्सेशन ज़ोन

Question ID : 9895806386
Chosen Option : 3

Q.3
7 विश्व स्वास्थ्य संगठन (डब्ल्यूएचओ) द्वारा 2017 में प्रकाशित रिपोर्ट के अनुसार, दुनिया में लगभग कितने लोगों को को घर पर सुरक्षित पेयजल उपलब्ध नहीं है?

- Ans
- 1. 2.1 बिलियन
 - 2. 4.2 बिलियन
 - 3. 500 मिलियन
 - 4. 900 मिलियन

Question ID : 9895806391
Chosen Option : 3

Q.3
8 भारत ने हॉकी के लिए 8 ओलंपिक स्वर्ण पदक जीते हैं। भारत ने ओलंपिक में हॉकी के लिए पिछली बार स्वर्ण पदक कब जीता था?

- Ans
- 1. 1980
 - 2. 1984
 - 3. 1976
 - 4. 1988

Question ID : 9895806401
Chosen Option : 2

Q.3 भारतीय एथलीट दुती चंद निम्नलिखित में से किस खेल से जुड़ी हैं?

- Ans
- 1. भाला फेंक
 - 2. गोला फेंक
 - 3. कूद (जंपिंग)
 - 4. तेज दौड़ (स्प्रिन्टिंग)

Question ID : 9895806399
Chosen Option : 1

Q.4 निम्नलिखित में से कौन सा 'घरेलू हिंसा से महिलाओं की सुरक्षा अधिनियम, 2005' के बारे में सही नहीं है?

- Ans
- 1. यह घर के वयस्क पुरुष सदस्य द्वारा चोट या नुकसान अथवा चोट या नुकसान की धमकी के मामले में लागू होता है।
 - 2. 'डोमेस्टिक' शब्द में वे सभी महिलाएं शामिल हैं जो आरोपी पुरुष सदस्य के साथ एक साझा घर में रहती हैं या रही हैं।
 - 3. चोट शारीरिक, भावनात्मक या आर्थिक हो सकती है।
 - 4. यह कार्यस्थल पर की गई हिंसा पर भी लागू होता है।

Question ID : 9895806393
Chosen Option : 3

Q.4 'कुचिपुड़ी' की उत्पत्ति किस राज्य से हुई है?

- Ans
- 1. तमिलनाडु
 - 2. पुडुचेरी
 - 3. आंध्र प्रदेश
 - 4. केरल

Question ID : 9895806403
Chosen Option : 1

Q.4 एसिड और क्षारकों का एक विशेष गुण एक दूसरे के गुणों को _____ की उनकी क्षमता है।

- Ans
- 1. परिशोधित करने
 - 2. क्रिस्टलित करने
 - 3. निष्प्रभावित करने
 - 4. अपनाने

Question ID : 9895806387
Chosen Option : 1

Q.4 2022 फीफा विश्व कप के लिए मेजबान देश कौन सा है?

- Ans
- 1. जर्मनी

2. फ्रांस
 3. जापान
 4. कतर

Question ID : 9895806402
Chosen Option : 2

Q.4 निम्नलिखित में से कौन सा भू संरक्षण का तरीका नहीं है?

- Ans 1. पलवार
 2. अपक्षयण
 3. अंतर्फल
 4. समोच्च जुताई

Question ID : 9895806385
Chosen Option : 1

Q.4 संसद के पास भारत के संविधान के प्रावधानों में संशोधन करने की शक्तियाँ हैं। संविधान का कौन सा अनुच्छेद संसद को यह शक्ति प्रदान करता है?

- Ans 1. अनुच्छेद 1
 2. अनुच्छेद 256
 3. अनुच्छेद 368
 4. अनुच्छेद 55

Question ID : 9895806394
Chosen Option : 4

Q.4 2018 के बजट के अनुसार भारत के राष्ट्रपति का मासिक वेतन क्या है?

- Ans 1. 3 लाख
 2. 2 लाख
 3. 5 लाख
 4. 4 लाख

Question ID : 9895806395
Chosen Option : 1

Q.4 झूम कृषि को इस प्रकार भी जाना जाता है:

- Ans 1. शिफ्टिंग खेती
 2. गहन निर्वाह खेती
 3. व्यापक खेती
 4. व्यावसायिक खेती

Question ID : 9895806384
Chosen Option : 4

Q.4

8 सिंधु घाटी सभ्यता के बारे में निम्नलिखित में से कौन सा कथन सत्य नहीं है?

Ans 1.

यह एक शहरी सभ्यता थी जहाँ लोग सुनियोजित कस्बों में रहते थे।

2. घर पकी हुई ईंटों से बने थे।

3.

यह वर्तमान पाकिस्तान और पश्चिमी भारत में लगभग 2500 ईसा पूर्व में पुष्पित पल्लवित हुआ।

4. पशु का मांस प्रमुख भोजन था।

Question ID : 9895806381

Chosen Option : 1

Q.4 केंद्रीय बजट से _____ पहले आर्थिक सर्वेक्षण आम तौर पर प्रस्तुत किया जाता है।

Ans 1. 7 दिन

2. 1 दिन

3. 15 दिन

4. 2 दिन

Question ID : 9895806396

Chosen Option : 1

Q.5 स्वच्छ भारत अभियान भारत सरकार द्वारा किसकी जयंती पर शुरू किया गया?

Ans 1. वल्लभभाई पटेल

2. महात्मा गांधी

3. जवाहरलाल नेहरू

4. अटल बिहारी वाजपेयी

Question ID : 9895806388

Chosen Option : 2

Q.5 A को 60 km की दूरी तय करने में B से 6 घंटे अधिक लगते हैं। लेकिन यदि A अपनी गति को दोगुना कर लेता है, तो उसे वही दूरी तय करने में उसे B से 3 घंटे कम समय लगता है। A की गति (km/hr में) कितनी है?

Ans 1. $4\frac{2}{3}$

2. 5

3. 4

4. $3\frac{1}{3}$

Question ID : 9895806299

Chosen Option : 3

Q.5 ग्राहक को अंकित मूल्य पर 8% की छूट देने के बाद 38% लाभ प्राप्त करने के लिए किसी वस्तु को क्रय मूल्य से कितने प्रतिशत अधिक मूल्य पर अंकित किया जाना चाहिए?

Ans 1. 45

2. 50

3. 48

✗ 4. 46

Question ID : 9895806286

Chosen Option : 4

Q.5 एक दुकानदार का लाभ उसके माल की बिक्री का 16% था। यदि उसके क्रय मूल्य में 20% की कमी होती है, और वह अपने विक्रय मूल्य को 23% कम कर देता है, तो अब उसके लाभ का प्रतिशत क्या है? (दशमलव के एक स्थान तक गणना करें)

- Ans
- ✗ 1. 15.8
 - ✓ 2. 14.6
 - ✗ 3. 15.4
 - ✗ 4. 14.9

Question ID : 9895806287

Chosen Option : 3

Q.5 निम्नलिखित तालिका का अध्ययन करें, जो पांच वर्षों में एक कंपनी द्वारा निर्मित एवं बेचे गए उत्पाद की इकाइयों की संख्या दर्शाती है, और प्रश्न के उत्तर दें।

वर्ष	निर्मित इकाइयों की संख्या (हजार में)	बेचे गए
2013	350	320
2014	375	315
2015	300	280
2016	450	423
2017	420	360

पाँच वर्षों के दौरान न बिकने वाली इकाइयों की कुल संख्या, 2013 और 2015 में निर्मित उत्पाद की कुल इकाइयों की संख्या की कितने प्रतिशत है? (दशमलव के एक स्थान तक गणना करें)

- Ans
- ✓ 1. 30.3
 - ✗ 2. 29.4
 - ✗ 3. 29.6
 - ✗ 4. 30.8

Question ID : 9895806303

Chosen Option : 3

Q.5 यदि किसी वस्तु को ₹ 85 में बेचने के बजाय ₹ 93 बेचे जाने पर 20% ज्यादा लाभ होता है, तो वस्तु का क्रय मूल्य क्या है?

- Ans
- ✗ 1. ₹ 64
 - ✓ 2. ₹ 40
 - ✗ 3. ₹ 56
 - ✗ 4. ₹ 60

Question ID : 9895806288

Chosen Option : 3

Q.5 एक 280 मीटर लंबी ट्रेन 108 km/hr की गति से चल रही है। इसे 170 m लंबाई के पुल को पार करने में कितना समय लगेगा?

- Ans
- ✗ 1. 12 सेकंड
 - ✗ 2. 10 सेकंड
 - ✗ 3. 16 सेकंड
 - ✓ 4. 15 सेकंड

Question ID : 9895806300
Chosen Option : 1

Q.5 एक कक्षा में 24 छात्रों की औसत आयु 15.5 वर्ष है। इनके शिक्षक की आयु सभी पच्चीस छात्रों की आयु के औसत से 7 वर्ष अधिक है। शिक्षक की आयु वर्ष में कितनी है?

- Ans
- 1. $44\frac{2}{3}$
 - 2. $42\frac{1}{3}$
 - 3. $41\frac{2}{3}$
 - 4. $40\frac{1}{3}$

Question ID : 9895806284
Chosen Option : 3

Q.5 ₹ 24500 की राशि पर 10% वार्षिक चक्रवृद्धि ब्याज की दर से $2\frac{2}{5}$ वर्ष का चक्रवृद्धि ब्याज क्या होगा, ब्याज की गणना वार्षिक चक्रवृद्धि आधार पर की जाती है?

- Ans
- 1. ₹ 6330.80
 - 2. ₹ 6338.40
 - 3. ₹ 6342
 - 4. ₹ 6340

Question ID : 9895806294
Chosen Option : 1

Q.5 $1.6 \div 1.6$ of $1.6 + 0.6$ of $1.4 \div 0.5 - 0.001 \times 1.5 \div 0.075$ का मान _____ के बीच है।

- Ans
- 1. 2.6 और 2.8
 - 2. 2 और 2.2
 - 3. 2.4 और 2.6
 - 4. 2.2 और 2.4

Question ID : 9895806283
Chosen Option : 1

Q.6 A और B की वर्तमान आयु का अनुपात 15 : 8 है। 8 वर्ष के बाद उनकी आयु का अनुपात 17 : 10 होगा। अब से 10 वर्ष बाद A और B की आयु का अनुपात क्या होगा?

- Ans
- 1. 7 : 4
 - 2. 8 : 5
 - 3. 10 : 7
 - 4. 5 : 3

Question ID : 9895806291
Chosen Option : 3

Q.6 2 पात्रों, A और B में अम्ल और पानी का मिश्रण भरा है। A और B में अम्ल और पानी का अनुपात क्रमशः 7 : 3 और 4 : 1 है। उन्हें 1 : 2 के अनुपात में मिलाया जाता है। प्राप्त मिश्रण में अम्ल और पानी का अनुपात क्या है?

- Ans
- 1. 23 : 7
 - 2. 16 : 7

3. 25 : 9

4. 15 : 8

Question ID : 9895806292

Chosen Option : 2

Q.6 A और B की एक निश्चित कार्य करने की क्षमताओं का अनुपात 5 : 8 है। एक साथ काम करके वे उस काम को 20 दिनों में पूरा कर सकते हैं, A अकेले उस काम के 25% हिस्से को कितने दिन में पूरा करेगा?

Ans 1. 12 दिन

2. 11 दिन

3. 14 दिन

4. 13 दिन

Question ID : 9895806301

Chosen Option : 2

Q.6 42 cm व्यास वाले एक वृत्त से एक वृत्त-खंड काटा जाता है। यदि इस वृत्त-खंड का कोण 150° है तो इसका क्षेत्रफल 3 cm^2 में क्या है? ($\pi = \frac{22}{7}$ लें)

Ans 1. 584.8

2. 564.6

3. 577.5

4. 580.4

Question ID : 9895806296

Chosen Option : 2

Q.6 ₹ 1518 की एक राशि को A, B और C के बीच इस प्रकार विभाजित किया जाता है कि A, B से 20% अधिक प्राप्त करता है और B, C से 20% कम प्राप्त करता है। इस राशि में C का हिस्सा कितना है?

Ans 1. ₹ 528

2. ₹ 440

3. ₹ 550

4. ₹ 572

Question ID : 9895806289

Chosen Option : 1

Q.6 10 संख्याओं का औसत 41 है। पहली 3 संख्याओं का औसत 39.4 है और अंतिम 4 संख्याओं का औसत 43.5 है। 4थी संख्या, 5वीं संख्या से 2 अधिक और 6 वीं संख्या से 0.2 अधिक है। 4 थी और 6 वीं संख्या का औसत क्या है?

Ans 1. 39.9

2. 38.9

3. 39.6

4. 38.7

Question ID : 9895806285

Chosen Option : 2

Q.6 किसी राशि पर साधारण ब्याज उस राशि का $11\frac{1}{9}\%$ है और वर्षों की संख्या प्रतिशत वार्षिक ब्याज की दर के बराबर है। उसी दर पर ₹ 12600 की राशि का $2\frac{4}{5}$ वर्ष का साधारण ब्याज क्या होगा?

Ans 1. ₹ 1216

2. ₹ 1176

✗ 3. ₹ 1164

✗ 4. ₹ 1224

Question ID : 9895806293

Chosen Option : 4

Q.6
7 A, किसी कार्य के $\frac{2}{5}$ हिस्से को 8 दिनों में पूरा कर सकता है। B उसी कार्य के $\frac{3}{5}$ हिस्से को 12 दिनों में पूरा कर सकता है और C उसी कार्य के $\frac{4}{5}$ हिस्से को 8 दिनों में पूरा कर सकता है। A और B ने 5 दिनों तक एक साथ काम किया। C को अकेले शेष कार्य को पूरा करने में कितना समय (दिन में) लगेगा?

Ans ✓ 1. 6

✗ 2. 9

✗ 3. $7\frac{1}{2}$

✗ 4. $8\frac{1}{2}$

Question ID : 9895806302

Chosen Option : 2

Q.6
8 मान लें की x, 29 का वह लघुत्तम अपवर्त्य है, जिसे 20, 21, 22, 24 और 28 से विभाजित करने पर, शेषफल क्रमशः 13, 14, 15, 17 और 21 मिलते हैं, तो x के अंकों का योग क्या है?

Ans ✗ 1. 18

✗ 2. 19

✓ 3. 23

✗ 4. 22

Question ID : 9895806281

Chosen Option : 1

Q.6
9 निम्नलिखित तालिका का अध्ययन करें, जो पांच वर्षों में एक कंपनी द्वारा निर्मित एवं बेचे गए उत्पाद की इकाइयों की संख्या दर्शाती है, और प्रश्न के उत्तर दें।

वर्ष	निर्मित इकाइयों की संख्या (हजार में)	बेचे गए
2013	350	320
2014	375	315
2015	300	280
2016	450	423
2017	420	360

किस वर्ष में बेची गई उत्पाद इकाइयों की संख्या, प्रति वर्ष निर्मित इकाइयों की औसत संख्या से 19000 अधिक है?

Ans ✓ 1. 2017

✗ 2. 2016

✗ 3. 2015

✗ 4. 2014

Question ID : 9895806305

Chosen Option : 2

Q.7
0 7 cm भुजा वाले घन से सबसे बड़ा गोला काट कर निकाला गया है। गोले का आयतन cm^3 में कितना है?
($\pi = \frac{22}{7}$ लें लीजिए)

Ans ✗ 1. $179\frac{1}{3}$

✗ 2. $182\frac{2}{3}$

✗ 3. $182\frac{1}{3}$

✓ 4. $179\frac{2}{3}$

Question ID : 9895806298
Chosen Option : 2

Q.7 $5\frac{5}{6} \div 3\frac{1}{2} \times 2\frac{1}{10} + \frac{3}{5}$ of $7\frac{1}{2} \div \frac{2}{3} - \frac{2}{3} \div \frac{8}{15} \times 1\frac{1}{5}$ का मान है:

Ans ✗ 1. $8\frac{3}{5}$

✓ 2. $8\frac{3}{4}$

✗ 3. $1\frac{3}{4}$

✗ 4. $2\frac{3}{5}$

Question ID : 9895806282
Chosen Option : 1

Q.7 यदि 12, x, 8 और 14 समानुपात में हैं, तो (x - 12) और (x + 4) के बीच माध्य समानुपात क्या है?

Ans ✓ 1. 15

✗ 2. 12

✗ 3. 16

✗ 4. 11

Question ID : 9895806290
Chosen Option : 3

Q.7 निम्नलिखित तालिका का अध्ययन करें, जो पांच वर्षों में एक कंपनी द्वारा निर्मित एवं बेचे गए उत्पाद की इकाइयों की संख्या दर्शाती है, और प्रश्न के उत्तर दें।

वर्ष	निर्मित इकाइयों की संख्या (हजार में)	बेचे गए
2013	350	320
2014	375	315
2015	300	280
2016	450	423
2017	420	360

2014 और 2015 में बेची गई इकाइयों की कुल संख्या और 2017 में निर्मित इकाइयों की संख्या का अनुपात क्या है?

Ans ✗ 1. 19:14

✗ 2. 9:8

✗ 3. 14:17

✓ 4. 17:12

Question ID : 9895806304
Chosen Option : 2

Q.7 एक सर्कस का तम्बू 3 m की ऊँचाई तक बेलनाकार है और इसके ऊपर शंकवाकार है। यदि आधार की त्रिज्या 52.5 m है और शंकु की तिर्यक ऊँचाई 52 m है, तो इसे बनाने के लिए आवश्यक कैनवास का कुल क्षेत्रफल कितना होगा?

- Ans 1. 3045π
 2. 2730π
 3. 2842π
 4. 3048π

Question ID : 9895806297
Chosen Option : 2

Q.7 संख्याएं 6, 8, 11, 12, $2x - 8$, $2x + 10$, 35, 41, 42, 50 आरोही क्रम में लिखी गई हैं। यदि उनकी माध्यिका 25 हो, तो संख्याओं का माध्य क्या है?

- Ans 1. 25.5
 2. 25.2
 3. 24.6
 4. 24.8

Question ID : 9895806295
Chosen Option : 2

Section : English Language

Comprehension:

In the following passage some words have been deleted. Fill in the blanks with the help of the alternatives given.

In 1893, Lokmanya Tilak converted the Ganapati festival _____ (1) a national celebration. He campaigned for _____ (2) wide celebration of this public festival throughout Maharashtra. It was _____ (3) this festival that he _____ (4) mobilise public support for the nationalist _____ (5)

SubQuestion No : 1

Q.1 Select the most appropriate option that will fill in the blank number 1.

- Ans 1. into
 2. for
 3. to
 4. with

Question ID : 9895806059
Chosen Option : --

Comprehension:

In the following passage some words have been deleted. Fill in the blanks with the help of the alternatives given.

In 1893, Lokmanya Tilak converted the Ganapati festival _____ (1) a national celebration. He campaigned for _____ (2) wide celebration of this public festival throughout Maharashtra. It was _____ (3) this festival that he _____ (4) mobilise public support for the nationalist _____ (5)

SubQuestion No : 2

Q.2 Select the most appropriate option that will fill in the blank number 2.

- Ans
- 1. some
 - 2. a
 - 3. the
 - 4. one

Question ID : 9895806060
Chosen Option : --

Comprehension:

In the following passage some words have been deleted. Fill in the blanks with the help of the alternatives given.

In 1893, Lokmanya Tilak converted the Ganapati festival _____ (1) a national celebration. He campaigned for _____ (2) wide celebration of this public festival throughout Maharashtra. It was _____ (3) this festival that he _____ (4) mobilise public support for the nationalist _____ (5)

SubQuestion No : 3

Q.3 Select the most appropriate option that will fill in the blank number 3.

- Ans
- 1. throughout
 - 2. without
 - 3. with
 - 4. through

Question ID : 9895806061
Chosen Option : --

Comprehension:

In the following passage some words have been deleted. Fill in the blanks with the help of the alternatives given.

In 1893, Lokmanya Tilak converted the Ganapati festival _____ (1) a national celebration. He campaigned for _____ (2) wide celebration of this public festival throughout Maharashtra. It was _____ (3) this festival that he _____ (4) mobilise public support for the nationalist _____ (5)

SubQuestion No : 4

Q.4 Select the most appropriate option that will fill in the blank number 4.

- Ans
- 1. will
 - 2. can
 - 3. may
 - 4. could

Question ID : 9895806062
Chosen Option : --

Comprehension:

In the following passage some words have been deleted. Fill in the blanks with the help of the alternatives given.

In 1893, Lokmanya Tilak converted the Ganapati festival _____ (1) a national celebration. He campaigned for _____ (2) wide celebration of this public festival throughout Maharashtra. It was _____ (3) this festival that he _____ (4) mobilise public support for the nationalist _____ (5)

SubQuestion No : 5

Q.5 Select the most appropriate option that will fill in the blank number 5.

- Ans
- 1. festival
 - 2. season
 - 3. movement
 - 4. term

Question ID : 9895806063

Chosen Option : --

Q.6 Select the option that means the same as the given idiom.

Hit the nail on the head

- Ans
- 1. Use hammer and nail
 - 2. Use some tools
 - 3. Hit the nail exactly
 - 4. Accurately right

Question ID : 9895806069

Chosen Option : --

Q.7 Select the correctly spelt word.

- Ans
- 1. Millenniam
 - 2. Millenium
 - 3. Millennium
 - 4. Millennium

Question ID : 9895806073

Chosen Option : --

Q.8 From the given options, identify the segment in the sentence which contains the grammatical error.

Is the older person always more wiser than the younger one?

- Ans
- 1. more wiser
 - 2. older person always
 - 3. than the younger one?
 - 4. Is the

Question ID : 9895806050

Chosen Option : --

Q.9

Select the word which means the same as the group of words given.

One who makes an eloquent public speech

- Ans
- 1. Debater
 - 2. Leader
 - 3. Orator
 - 4. Speaker

Question ID : 9895806070
Chosen Option : --

Q.1
0 Select the antonym of the given word.

HUMILITY

- Ans
- 1. Modesty
 - 2. Cruelty
 - 3. Obedience
 - 4. Shyness

Question ID : 9895806067
Chosen Option : --

Q.1
1 Select the most appropriate option to substitute the underlined segment in the given sentence. If there is no need to substitute it, select No improvement.

Would you mind help me with these questions?

- Ans
- 1. Would you mind helping
 - 2. Would you mind to help
 - 3. Would you mind for helping
 - 4. No improvement

Question ID : 9895806054
Chosen Option : --

Q.1
2 Select the synonym of the given word.

ZENITH

- Ans
- 1. Border
 - 2. Edge
 - 3. Peak
 - 4. Brink

Question ID : 9895806065
Chosen Option : --

Q.1
3 Select the most appropriate option to substitute the underlined segment in the given sentence. If there is no need to substitute it, select No improvement.

A team of doctors is focusing over treatment of cancer at an early age.

- Ans
- 1. is focusing on treatment of cancer
 - 2. is focusing in treatment of cancer

- 3. No improvement
- 4. is focusing onto treatment of cancer

Question ID : 9895806055
Chosen Option : --

Q.1 Select the most appropriate option to fill in the blank.
4

One should be careful to check the grease and oil in _____ car occasionally for it's smooth functioning.

- Ans
- 1. one's
 - 2. our
 - 3. their
 - 4. ones

Question ID : 9895806056
Chosen Option : --

Q.1 From the given options, identify the segment in the sentence which contains the grammatical error.
5

As a painter he are good if not better than Suresh.

- Ans
- 1. if not better
 - 2. he are good
 - 3. than Suresh
 - 4. As a painter

Question ID : 9895806052
Chosen Option : --

Q.1 Select the antonym of the given word.
6

GRANT

- Ans
- 1. Sanction
 - 2. Refuse
 - 3. Approve
 - 4. Reject

Question ID : 9895806066
Chosen Option : --

Q.1 Select the most appropriate option to fill in the blank.
7

'Discovery of India' _____ by Jawaharlal Nehru.

- Ans
- 1. have written
 - 2. has written
 - 3. has been written
 - 4. have been written

Question ID : 9895806057
Chosen Option : --

Q.1
8

Select the synonym of the given word.

RESISTANCE

- Ans
- 1. Recognition
 - 2. Enthusiasm
 - 3. Refusal
 - 4. Approval

Question ID : 9895806064
Chosen Option : --

Q.1
9 Select the most appropriate word to fill in the blank.

Many tourists to India visit the beautiful valley of Kashmir _____ in spring and summer.

- Ans
- 1. rarely
 - 2. especially
 - 3. frequently
 - 4. generally

Question ID : 9895806074
Chosen Option : --

Q.2
0 Select the most appropriate option to substitute the underlined segment in the given sentence. If there is no need to substitute it, select No improvement.

He have been working on and off for two years to complete a book.

- Ans
- 1. have worked
 - 2. No improvement
 - 3. has been working
 - 4. has work

Question ID : 9895806053
Chosen Option : --

Q.2
1 Select the correctly spelt word.

- Ans
- 1. Acquaintance
 - 2. Acquaintance
 - 3. Acquaintence
 - 4. Acquaintance

Question ID : 9895806072
Chosen Option : --

Q.2
2 Select the option that means the same as the given idiom.

In black and white

- Ans
- 1. Scanned
 - 2. In colour
 - 3. In writing

4. Photocopied

Question ID : 9895806068

Chosen Option : --

Q.2
3 Select the word which means the same as the group of words given.

The absence of government in a country

- Ans
- 1. Autocracy
 - 2. Democracy
 - 3. Bureaucracy
 - 4. Anarchy

Question ID : 9895806071

Chosen Option : --

Q.2
4 Select the most appropriate word to fill in the blank.

Our society is _____ by the evil of corruption; the integrity of even senior officials is disputed.

- Ans
- 1. endangered
 - 2. indicated
 - 3. identified
 - 4. specified

Question ID : 9895806075

Chosen Option : --

Q.2
5 From the given options, identify the segment in the sentence which contains the grammatical error.

When I asked for directions, he gave me many wrong informations.

- Ans
- 1. gave me many
 - 2. for directions
 - 3. When I asked
 - 4. wrong informations

Question ID : 9895806051

Chosen Option : --

Section : Hindi Language

Q.1 दिये गये वाक्यांश के लिए एक शब्द दीजिये।

जिसमें कोई संदेह न हो

- Ans
- 1. निस्संदेह
 - 2. संदेहास्पद
 - 3. ससंदेह
 - 4. संदेहशील

Question ID : 9895806047

Chosen Option : 1

Q.2 दिए गए वाक्य का वह भाग ज्ञात करें जिसमें कोई त्रुटि है।

समय की गति बड़ी अद्भुत है, समय किसी की भी प्रतीक्षा नहीं करती।

- Ans
- 1. समय किसी की भी
 - 2. प्रतीक्षा नहीं करती।
 - 3. समय की गति
 - 4. बड़ी अद्भुत है,

Question ID : 9895806024

Chosen Option : 1

Comprehension:

निम्नलिखित गद्यांश के रिक्त स्थानों की पूर्ति गद्यांश के नीचे दिए गए प्रश्नों के अनुसार कीजिए-

दैनिक जीवन के सभी कार्य मनुष्य और _____ (1) एक समान करते हैं। मनुष्य और पशु दोनों में यदि कोई अंतर है तो बस यही कि मनुष्य में परोपकार की _____ (2) होती है। वह इसमें आनंद अनुभव करता है। पशु इस _____ (3) से वंचित रह जाते हैं। परोपकार तो हमारी भारतीय _____ (4) के मूल में है। भारतीय इतिहास में ऐसे अनेक उदाहरण मिल जाएँगे जिन्होंने _____ (5) के लिए अपना सर्वस्व दान कर दिया।

SubQuestion No : 3

Q.3 गद्यांश में संकेतित रिक्त स्थान (1) के लिए उपयुक्त शब्द होगा।

- Ans
- 1. सूर्य
 - 2. पशु
 - 3. तारे
 - 4. चाँद

Question ID : 9895806035

Chosen Option : 3

Comprehension:

निम्नलिखित गद्यांश के रिक्त स्थानों की पूर्ति गद्यांश के नीचे दिए गए प्रश्नों के अनुसार कीजिए-

दैनिक जीवन के सभी कार्य मनुष्य और _____ (1) एक समान करते हैं। मनुष्य और पशु दोनों में यदि कोई अंतर है तो बस यही कि मनुष्य में परोपकार की _____ (2) होती है। वह इसमें आनंद अनुभव करता है। पशु इस _____ (3) से वंचित रह जाते हैं। परोपकार तो हमारी भारतीय _____ (4) के मूल में है। भारतीय इतिहास में ऐसे अनेक उदाहरण मिल जाएँगे जिन्होंने _____ (5) के लिए अपना सर्वस्व दान कर दिया।

SubQuestion No : 4

Q.4 गद्यांश में संकेतित रिक्त स्थान (2) के लिए उपयुक्त शब्द होगा।

- Ans
- 1. संकेत
 - 2. खिलवाड़
 - 3. घृणा
 - 4. भावना

Question ID : 9895806036
Chosen Option : 4

Comprehension:

निम्नलिखित गद्यांश के रिक्त स्थानों की पूर्ति गद्यांश के नीचे दिए गए प्रश्नों के अनुसार कीजिए-

दैनिक जीवन के सभी कार्य मनुष्य और _____ (1) एक समान करते हैं। मनुष्य और पशु दोनों में यदि कोई अंतर है तो बस यही कि मनुष्य में परोपकार की _____ (2) होती है। वह इसमें आनंद अनुभव करता है। पशु इस _____ (3) से वंचित रह जाते हैं। परोपकार तो हमारी भारतीय _____ (4) के मूल में है। भारतीय इतिहास में ऐसे अनेक उदाहरण मिल जाएँगे जिन्होंने _____ (5) के लिए अपना सर्वस्व दान कर दिया।

SubQuestion No : 5

Q.5 गद्यांश में संकेतित रिक्त स्थान (3) के लिए उपयुक्त शब्द होगा।

- Ans
- 1. आनंद
 - 2. दुख
 - 3. खेल
 - 4. तमाशा

Question ID : 9895806037
Chosen Option : 2

Comprehension:

निम्नलिखित गद्यांश के रिक्त स्थानों की पूर्ति गद्यांश के नीचे दिए गए प्रश्नों के अनुसार कीजिए-

दैनिक जीवन के सभी कार्य मनुष्य और _____ (1) एक समान करते हैं। मनुष्य और पशु दोनों में यदि कोई अंतर है तो बस यही कि मनुष्य में परोपकार की _____ (2) होती है। वह इसमें आनंद अनुभव करता है। पशु इस _____ (3) से वंचित रह जाते हैं। परोपकार तो हमारी भारतीय _____ (4) के मूल में है। भारतीय इतिहास में ऐसे अनेक उदाहरण मिल जाएँगे जिन्होंने _____ (5) के लिए अपना सर्वस्व दान कर दिया।

SubQuestion No : 6

Q.6 गद्यांश में संकेतित रिक्त स्थान (4) के लिए उपयुक्त शब्द होगा।

- Ans
- 1. संस्कृति
 - 2. देश
 - 3. पुराण
 - 4. पुस्तक

Question ID : 9895806038
Chosen Option : 1

Comprehension:

निम्नलिखित गद्यांश के रिक्त स्थानों की पूर्ति गद्यांश के नीचे दिए गए प्रश्नों के अनुसार कीजिए-

दैनिक जीवन के सभी कार्य मनुष्य और _____ (1) एक समान करते हैं। मनुष्य और पशु दोनों में यदि कोई अंतर है तो बस यही कि मनुष्य में परोपकार की _____ (2) होती है। वह इसमें आनंद अनुभव करता है। पशु इस _____ (3) से वंचित रह जाते हैं। परोपकार तो हमारी भारतीय _____ (4) के मूल में है। भारतीय इतिहास में ऐसे अनेक उदाहरण मिल जाएँगे जिन्होंने _____ (5) के लिए अपना सर्वस्व दान कर दिया।

SubQuestion No : 7

Q.7 गद्यांश में संकेतित रिक्त स्थान (5) के लिए उपयुक्त शब्द होगा।

- Ans
- 1. परोपकार
 - 2. मूर्खता
 - 3. संघर्ष
 - 4. लड़ाई

Question ID : 9895806039
Chosen Option : 3

Q.8 दिए गए वाक्य में रेखांकित खंड को प्रतिस्थापित करने के लिए उपयुक्त विकल्प का चयन करें।

दिवाली के त्योहार पर बाजार में दुकानों भी सजी है।

- Ans
- 1. दुकानों भी सजे हैं।
 - 2. दुकानें भी सजी हैं।
 - 3. दुकान भी सजे हैं।
 - 4. दुकान भी सजा है।

Question ID : 9895806028

Chosen Option : 2

Q.9 निम्नलिखित में से उस विकल्प का चयन करें जो 'घर फूँककर तमाशा देखना' मुहावरे का अर्थ व्यक्त करता है।

- Ans
- 1. तमाशा देखना
 - 2. निकम्मा होना
 - 3. अपनी हानि करके मौजमस्ती करना
 - 4. घर को फूँकना

Question ID : 9895806045

Chosen Option : 2

Q.10 दिए गए वाक्य में रेखांकित खंड को प्रतिस्थापित करने के लिए उपयुक्त विकल्प का चयन करें।

इस समय हमारे देश से भावनात्मक एकता की आवश्यकता है।

- Ans
- 1. इस समय हमारे देश पर
 - 2. इस समय हमारे देशों को
 - 3. इस समय हमारे देश का
 - 4. इस समय हमारे देशों का

Question ID : 9895806029

Chosen Option : 1

Q.11 निम्नलिखित में से उस विकल्प का चयन करें जो 'नाक में दम करना' मुहावरे का अर्थ व्यक्त करता है।

- Ans
- 1. अपमान करना
 - 2. दम को रोकना
 - 3. बहुत परेशान करना
 - 4. शान्त रहना

Question ID : 9895806044

Chosen Option : 3

Q.12 रिक्त स्थान को भरने के लिए उपयुक्त शब्द का चयन करें।

घर के _____ अस्पताल है।

- Ans
- 1. द्वारा
 - 2. बिना
 - 3. अंदर
 - 4. सामने

Question ID : 9895806030
Chosen Option : 4

Q.1
3 दिए गए शब्द का विलोम चुनें।

उज्ज्वल

- Ans
- 1. धूमिल
 - 2. पारदर्शी
 - 3. स्वच्छ
 - 4. प्रकाशित

Question ID : 9895806040
Chosen Option : 1

Q.1
4 दिए गए शब्द का विलोम चुनें।

निर्मल

- Ans
- 1. कमजोर
 - 2. निर्जल
 - 3. ताकतवर
 - 4. मलिन

Question ID : 9895806041
Chosen Option : 1

Q.1
5 रिक्त स्थान को भरने के लिए उपयुक्त शब्द का चयन करें।

बाहर _____ आया है?

- Ans
- 1. हम
 - 2. किसने
 - 3. मैं
 - 4. कौन

Question ID : 9895806033
Chosen Option : 4

Q.1
6 सही वर्तनी वाले शब्द का चयन करें।

- Ans
- 1. गयीका
 - 2. गायीका

3. गयिका

4. गायिका

Question ID : 9895806048
Chosen Option : 4

Q.1
7 रिक्त स्थान को भरने के लिए उपयुक्त शब्द का चयन करें।

घोड़े पर सवार वह _____ पड़ा।

Ans 1. खेल

2. उड़

3. धर

4. गिर

Question ID : 9895806032
Chosen Option : 4

Q.1
8 दिए गए वाक्य का वह भाग ज्ञात करें जिसमें कोई त्रुटि है।

जंगल में जाने पर उसके सामने भील आ गई।

Ans 1. जंगल में

2. जाने पर

3. भील आ गई।

4. उसके सामने

Question ID : 9895806025
Chosen Option : 4

Q.1
9 सही वर्तनी वाले शब्द का चयन करें।

Ans 1. चतूर्भुज

2. चर्तुभुज

3. चतुरभुज

4. चतुर्भुज

Question ID : 9895806049
Chosen Option : 2

Q.2
0 दिए गए शब्द के पर्यायवाची शब्द का चयन करें।

संपूर्ण

Ans 1. पूरा

2. आधा

✗ 3. अधूरा

✗ 4. छोटा

Question ID : 9895806042

Chosen Option : 1

Q.2
1 दिए गए वाक्य में रेखांकित खंड को प्रतिस्थापित करने के लिए उपयुक्त विकल्प का चयन करें।

मुझे पनीर का मिठाई बहुत पसंद है।

Ans ✗ 1. पनीर को मिठाई

✓ 2. पनीर की मिठाई

✗ 3. पनीर से मिठाई

✗ 4. पनीर में मिठाई

Question ID : 9895806027

Chosen Option : 2

Q.2
2 रिक्त स्थान को भरने के लिए उपयुक्त शब्द का चयन करें।

महात्मा गांधी _____ हैं।

Ans ✗ 1. अल्पज्ञ

✗ 2. वाचाल

✓ 3. लोकप्रिय

✗ 4. असत्यवादी

Question ID : 9895806031

Chosen Option : 3

Q.2
3 दिये गये वाक्यांश के लिए एक शब्द दीजिये।

जिसका अंत न हो

Ans ✗ 1. अजर

✗ 2. अज्ञात

✗ 3. अंतिम

✓ 4. अनंत

Question ID : 9895806046

Chosen Option : 4

Q.2
4 दिए गए शब्द के पर्यायवाची शब्द का चयन करें।

प्रधान

Ans ✗ 1. गौण

✓ 2. मुख्य

3. मंत्री

4. नेता

Question ID : 9895806043

Chosen Option : 2

Q.2 दिए गए वाक्य का वह भाग ज्ञात करें जिसमें कोई त्रुटि है।

अपना संतान किसे अच्छी नहीं लगती, फिर भी दूसरों के प्रति उदार रहना हमारा धर्म है।

Ans

1. हमारा धर्म है

2. किसे अच्छी नहीं लगती,

3. फिर भी दूसरों के प्रति उदार रहना

4. अपना संतान

Question ID : 9895806026

Chosen Option : 2